




Bộ đề thi học kì 1 lớp 1 môn Toán năm học 2020 - 2021


Đề thi học kì 1 môn Toán lớp 1 – Đề số 1


Bài 1 (2 điểm): Khoanh vào số thích hợp:


		
8	6	7


		
5	9	3


		
12	13	11


		
20	19	17

		
16	18	14

		
4	5	7

		
10	8	9

		
14	16	12

		
17	15	19

Bài 2 (2 điểm): Cho các số 4, 15, 3, 17, 8. Hãy:

- a) Sắp xếp các số theo thứ tự từ bé đến lớn.
- b) Trong các số trên, số lớn nhất là số nào?
- c) Trong các số trên, số bé nhất là số nào?

Bài 3 (2 điểm): Đặt rồi tính:

$11 + 3$

$17 + 2$

$16 - 5$

$18 - 8$

Bài 4 (2 điểm): Nối:

$5 + 4$

14

$18 - 5$

$2 + 3$

13

$11 + 3$

$17 - 3$

9

$2 + 7$

$11 + 2$

10

$16 - 6$

$2 + 8$

5

$7 - 2$










Bài 5 (2 điểm): Điền số thích hợp vào chỗ trống:

a) $3 + \square = 15$

b) $19 - \square = 12$

Đáp án Đề thi học kì 1 môn Toán lớp 1 – Đề số 1

Bài 1:

		
8 6 7	5 9 3	12 13 11
		
20 19 17	16 18 14	4 5 7
		
10 8 9	14 16 12	17 15 19

Bài 2:

a) Sắp xếp: 3, 4, 8, 15, 17

b) Trong các số trên, số lớn nhất là số 17

c) Trong các số trên, số bé nhất là số 3

Bài 3: Học sinh tự đặt phép tính rồi tính.

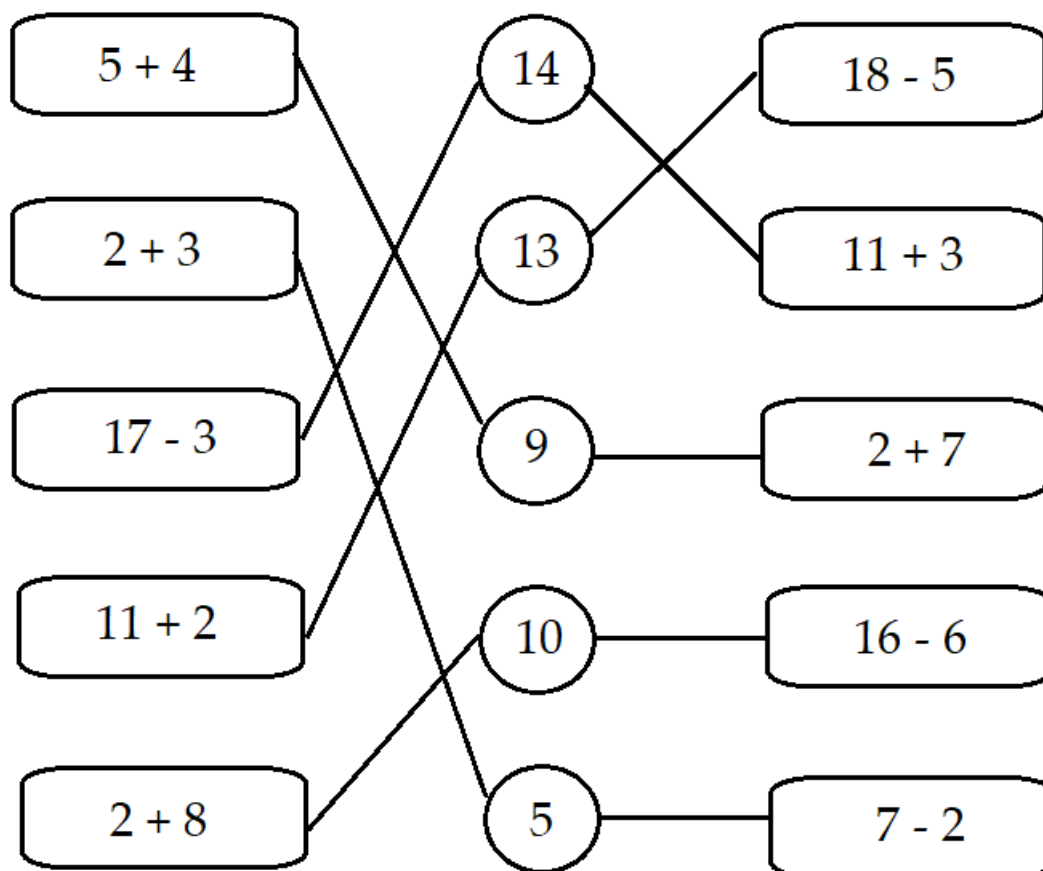
$11 + 3 = 14$

$17 + 2 = 19$

$16 - 5 = 11$

$18 - 8 = 10$

Bài 4:



Bài 5:

a) $3 + 12 = 15$

b) $19 - 7 = 12$

Tải thêm tài liệu tại:

<https://vndoc.com/tai-lieu-hoc-tap-lop-1>

Đề thi học kì 1 lớp 1 môn Toán sách Cùng học

_____ năm học


2020 - 2021 Đề số 2


Bản quyền thuộc về VnDoc.

Nghiêm cấm mọi hình thức sao chép nhằm mục đích thương mại.

Đề thi học kì 1 môn Toán lớp 1 – Đề số 2

Bài 1 (2 điểm): Điền số thích hợp vào ô trống:





Bài 2 (2 điểm): Tính nhẩm:

$4 + 5 = \dots$

$2 + 16 = \dots$

$13 + 2 = \dots$

$11 - 1 = \dots$

$18 - 5 = \dots$

$10 - 7 = \dots$

Bài 3 (2 điểm): Điền dấu $<$, $>$, $=$ thích hợp vào chỗ chấm:

$1 \dots 5$

$8 \dots 6$

$11 \dots 11$

$7 \dots 4$

$2 \dots 9$

$15 \dots 15$

Bài 4 (2 điểm): Đặt tính rồi tính:

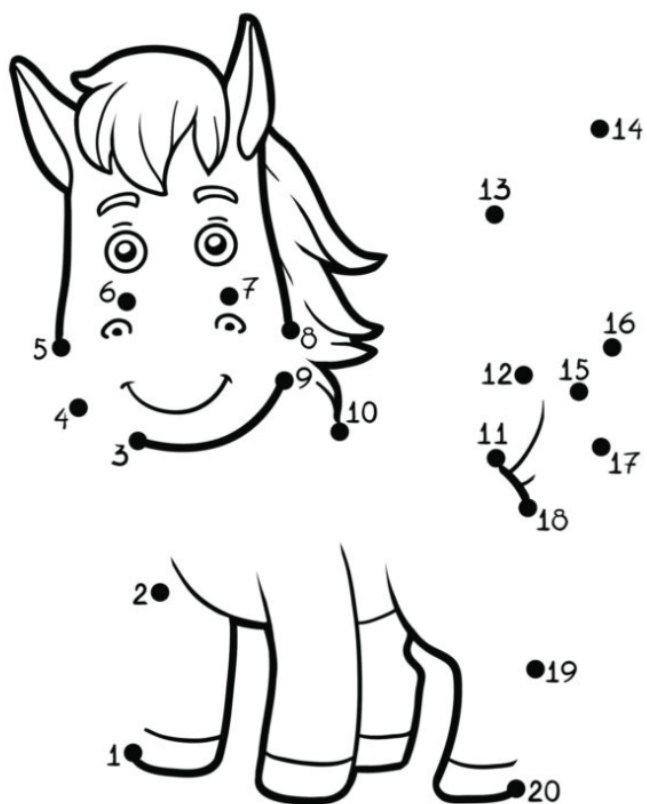
$2 + 8$

$14 + 2$

$18 - 7$


$15 - 5$

Bài 5 (2 điểm): Nối các số theo thứ tự từ bé đến lớn:



Đáp án Đề thi học kì 1 môn Toán lớp 1 – Đề số 2

Bài 1:



Bài 2:

$4 + 5 = 9$

$2 + 16 = 18$

$13 + 2 = 15$

$11 - 1 = 10$

$18 - 5 = 13$

$10 - 7 = 3$

Bài 3:

$1 < 5$

$8 > 6$

$11 = 11$

$7 > 4$

$2 < 9$

$15 = 15$

Bài 4: Học sinh tự đặt phép tính rồi tính

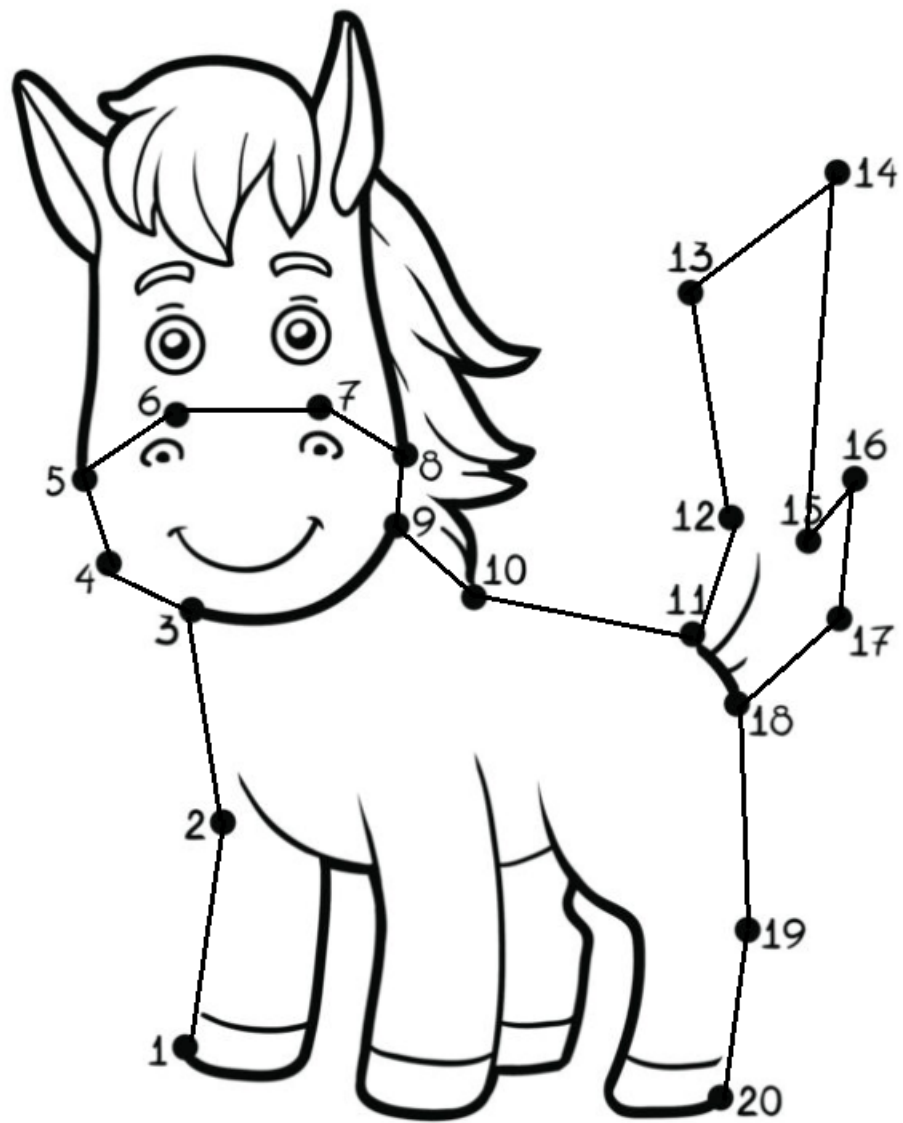
$2 + 8 = 10$

$14 + 2 = 16$

$18 - 7 = 11$

$15 - 5 = 10$

Bài 5:



Tải thêm tài liệu tại:

<https://vndoc.com/tai-lieu-hoc-tap-lop-1>

Đề thi học kì 1 lớp 1 môn Toán sách Cùng học _____ năm học

2020 - 2021 Đề số 3

Bản quyền thuộc về VnDoc.

Nghiêm cấm mọi hình thức sao chép nhằm mục đích thương mại.

Đề thi học kì 1 môn Toán lớp 1 – Đề số 3

Bài 1 (2 điểm): Viết số, cách đọc số vào chỗ chấm:

10	Mười	1 chục và 0 đơn vị.
14		
	Mười hai	
		1 chục và 6 đơn vị.
15		
	Mười bảy	

Bài 2 (2 điểm): Tính nhẩm:

$2 + 6 = \dots$

$11 + 3 = \dots$

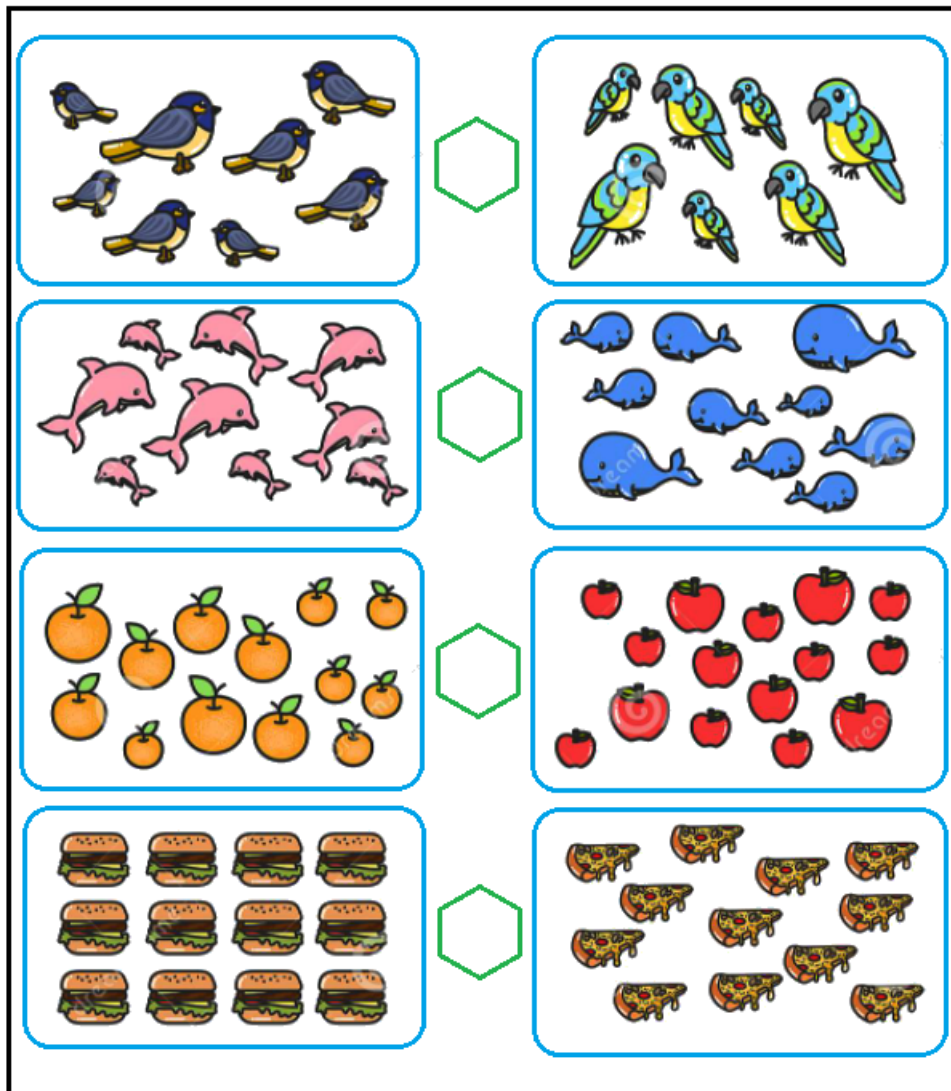
$12 + 7 = \dots$

$16 - 5 = \dots$

$9 - 3 = \dots$

$17 - 2 = \dots$

Bài 3 (2 điểm): Điền dấu <, >, = thích hợp vào ô trống:



Bài 4 (2 điểm):

- a) Sắp xếp các số 5, 14, 1, 12, 7 theo thứ tự từ bé đến lớn.
- b) Sắp xếp các số 9, 0, 14, 6, 17, 3 theo thứ tự từ lớn đến bé.

Bài 5 (2 điểm): Điền số thích hợp vào ô trống:

- a)

$6 \text{ lion emojis} + 4 \text{ lion emojis} = \square$

b)

$10 \text{ carrot emojis} + 3 \text{ carrot emojis} = \square$

c)

$12 \text{ key emojis} + 5 \text{ key emojis} = \square$

Đáp án Đề thi học kì 1 môn Toán lớp 1 – Đề số 3

Bài 1:

10	Mười	1 chục và 0 đơn vị.
14	Mười bốn	1 chục và 4 đơn vị.
12	Mười hai	1 chục và 2 đơn vị.
16	Mười sáu	1 chục và 6 đơn vị.
15	Mười lăm	1 chục và 5 đơn vị.
17	Mười bảy	1 chục và 7 đơn vị.

Bài 2:

$2 + 6 = 8$

$11 + 3 = 14$

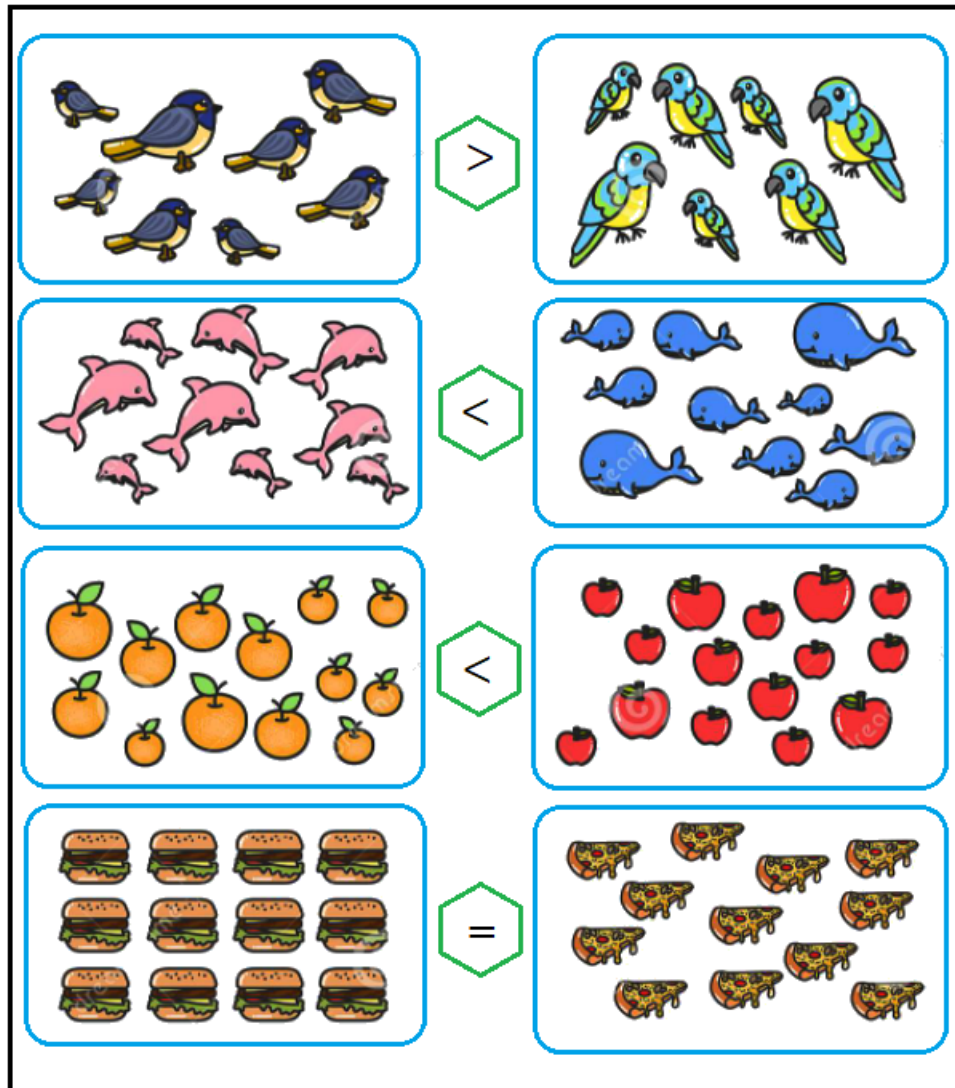
$12 + 7 = 19$

$16 - 5 = 11$

$9 - 3 = 6$

$17 - 2 = 15$

Bài 3:



Bài 4:

a) Sắp xếp: 1, 5, 7, 12, 14

b) Sắp xếp: 17, 14, 9, 6, 3, 0

Bài 5:

a)

$$\begin{array}{c} \text{🦁} \text{🦁} \text{🦁} \\ \text{🦁} \text{🦁} \text{🦁} \end{array} + \begin{array}{c} \text{🦁} \text{🦁} \\ \text{🦁} \text{🦁} \end{array} = \boxed{10}$$

b)

$$\begin{array}{c} \text{🥕} \text{🥕} \text{🥕} \text{🥕} \text{🥕} \\ \text{🥕} \text{🥕} \text{🥕} \end{array} + \begin{array}{c} \text{🥕} \text{🥕} \text{🥕} \end{array} = \boxed{14}$$

c)

$$\begin{array}{c} \text{🔑} \text{🔑} \text{🔑} \text{🔑} \\ \text{🔑} \text{🔑} \text{🔑} \\ \text{🔑} \text{🔑} \text{🔑} \end{array} + \begin{array}{c} \text{🔑} \text{🔑} \text{🔑} \text{🔑} \end{array} = \boxed{18}$$

Tải thêm tài liệu tại:

<https://vndoc.com/tai-lieu-hoc-tap-lop-1>

Đề thi học kì 1 lớp 1 môn Toán sách Cùng học

_____ năm học

2020 - 2021 Đề số 4

Bản quyền thuộc về VnDoc.

Nghiêm cấm mọi hình thức sao chép nhằm mục đích thương mại.

Đề thi học kì 1 môn Toán lớp 1 – Đề số 4

Bài 1 (2 điểm): Đặt tính rồi tính:

$3 + 4$

$12 + 5$

$16 - 6$

$15 - 3$

Bài 2 (2 điểm): Điền dấu <, >, = thích hợp vào chỗ chấm:

$4 \dots 6$

$5 \dots 3$

$12 \dots 19$

$14 \dots 17$

$15 \dots 15$

$13 \dots 13$

Bài 3 (2 điểm): Điền số thích hợp vào ô trống:

a)

$$\boxed{5} \xrightarrow{+4} \boxed{?} \xrightarrow{-2} \boxed{?} \xrightarrow{+11} \boxed{?}$$

b)

$$\boxed{8} \xrightarrow{+2} \boxed{?} \xrightarrow{-7} \boxed{?} \xrightarrow{-3} \boxed{?}$$

Bài 4 (2 điểm): Tính nhẩm:









$1 + 8 = \dots$

$12 + 5 = \dots$

$17 - 4 = \dots$

$19 - 2 = \dots$

Bài 5 (2 điểm): Điền số thích hợp vào ô trống:

 <input type="text"/>	 <input type="text"/>
 <input type="text"/>	 <input type="text"/>
 <input type="text"/>	 <input type="text"/>
 <input type="text"/>	 <input type="text"/>

Đáp án Đề thi học kì 1 môn Toán lớp 1 – Đề số 4

Bài 1: Học sinh tự đặt phép tính rồi tính

$3 + 4 = 7$

$12 + 5 = 17$

$16 - 6 = 10$

$15 - 3 = 12$

Bài 2:

$4 < 6$

$5 > 3$

$12 < 19$

$14 < 17$

$15 = 15$

$13 = 13$

Bài 3: Điền số thích hợp vào ô trống:

a)

$$\boxed{5} \xrightarrow{+4} \boxed{9} \xrightarrow{-2} \boxed{7} \xrightarrow{+11} \boxed{18}$$

b)

$$\boxed{8} \xrightarrow{+2} \boxed{10} \xrightarrow{-7} \boxed{3} \xrightarrow{-3} \boxed{0}$$

Bài 4:

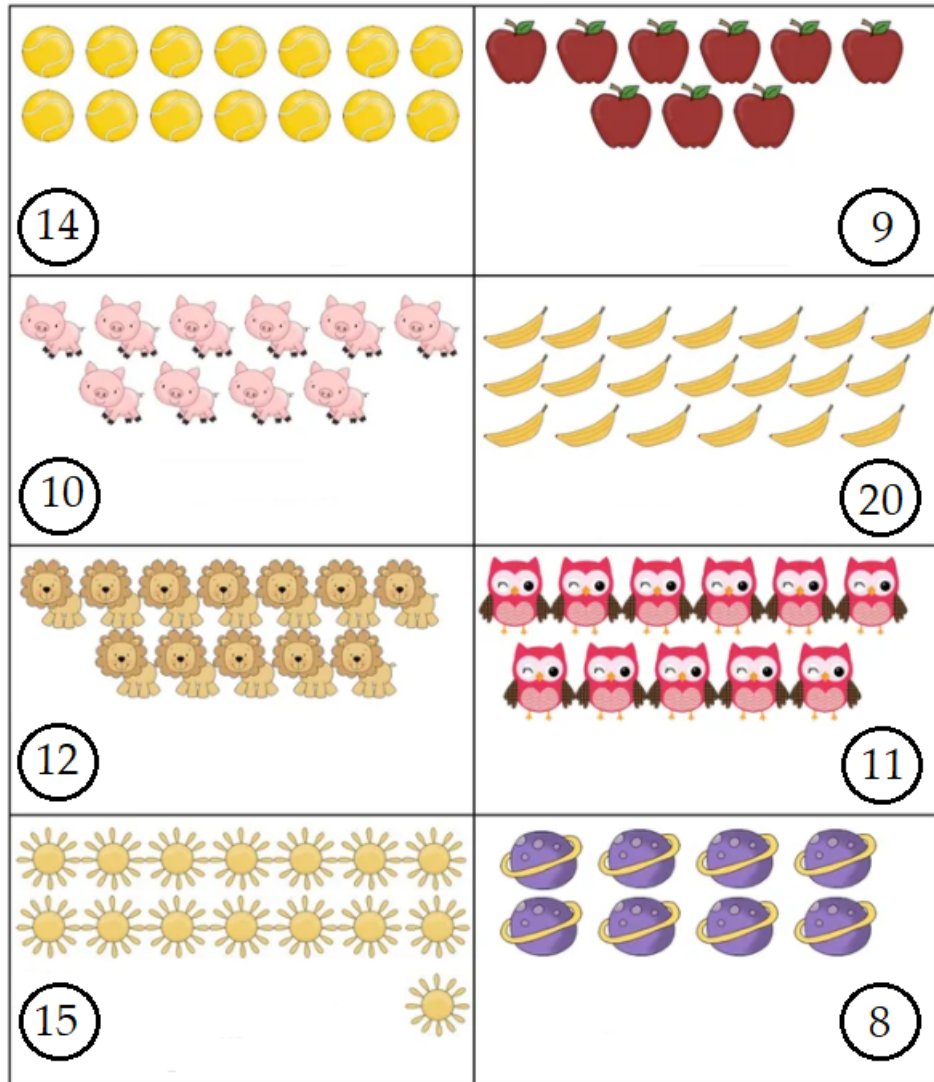
$1 + 8 = 9$

$12 + 5 = 17$

$17 - 4 = 13$

$19 - 2 = 17$

Bài 5:



Tải thêm tài liệu tại:

<https://vndoc.com/tai-lieu-hoc-tap-lop-1>

Đề thi học kì 1 lớp 1 môn Toán sách Cùng học

_____ năm học

2020 - 2021 Đề số 5

Bản quyền thuộc về VnDoc.

Nghiêm cấm mọi hình thức sao chép nhằm mục đích thương mại.

Đề thi học kì 1 môn Toán lớp 1 – Đề số 5

Bài 1 (2 điểm): Tính nhẩm:

$11 + 5 = \dots$

$4 + 6 = \dots$


$13 + 6 = \dots$

$5 - 2 = \dots$


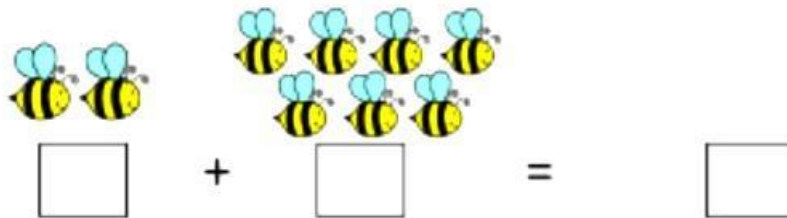
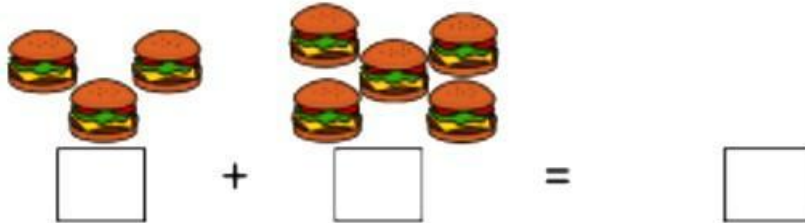

$19 - 5 = \dots$

$13 - 3 = \dots$

Bài 2 (2 điểm): Khoanh vào số bé hơn trong các hình:



Bài 3 (2 điểm): Điền số thích hợp vào ô trống:

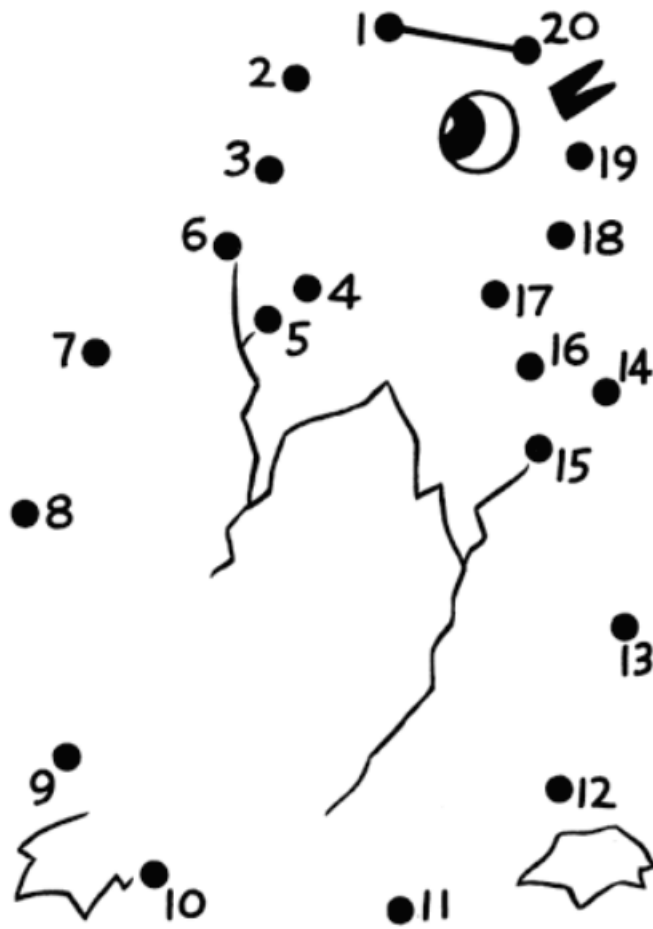


Bài 4 (2 điểm):

a) Sắp xếp các số: 3, 14, 6, 16, 8, 9 theo thứ tự từ bé đến lớn.

b) Sắp xếp các số: 0, 14, 7, 2, 15, 3 theo thứ tự từ lớn đến bé.

Bài 5 (2 điểm): Nối các số theo thứ tự từ bé đến lớn:



Đáp án Đề thi học kì 1 môn Toán lớp 1 – Đề số 5

Bài 1:

$11 + 5 = 16$

$4 + 6 = 10$


$13 + 6 = 19$

$5 - 2 = 3$

$19 - 5 = 14$

$13 - 3 = 10$



Bài 2:



Bài 3: Điền số thích hợp vào ô trống:

 3 +  6 = 9

 3 +  5 = 8

 2 +  7 = 9

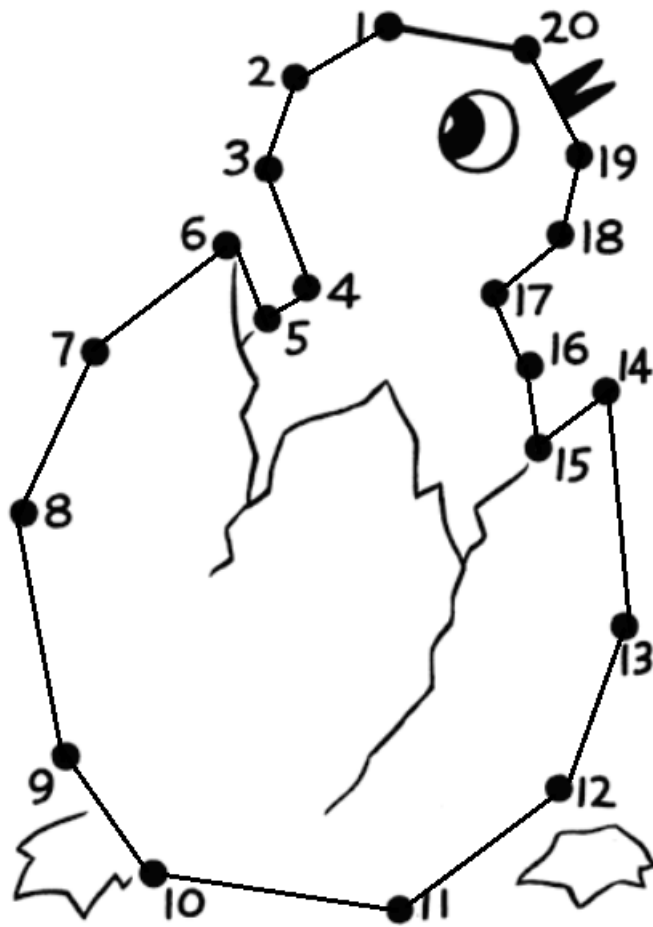
 5 +  5 = 10

Bài 4:

a) Sắp xếp: 3, 6, 8, 9, 14, 16

b) Sắp xếp: 15, 14, 7, 3, 2, 0

Bài 5:



Tải thêm tài liệu tại:

<https://vndoc.com/tai-lieu-hoc-tap-lop-1>