

# ĐỀ SỐ 1 Tuyển tập 37 đề thi học kì 1 môn Toán lớp 2

Trường: .....

KIỂM TRA CUỐI HỌC KÌ I

Lớp: .....

Môn: TOÁN-LỚP 2

Tên: .....

Năm học: 2011 – 2012

Thời gian: 90 phút.

**Bài 1:** Viết số thích hợp vào chỗ chấm: (1 điểm)

a. 87; 88; 89; .....; .....; .....; .....; 94; 95

b. 82; 84; 86; .....; .....; .....; .....; 97; 98

**Bài 2:** Viết số hoặc chữ thích hợp vào chỗ chấm: (1 điểm)

**Bài 3:** Tính nhẩm: (1 điểm)

Đọc số	Viết số
Chín mươi sáu.	.....
.....	84

a.  $9 + 8 = \dots$

c.  $2 + 9 = \dots$

b.  $14 - 6 = \dots$

d.  $17 - 8 = \dots$

**Bài 4:** Đúng ghi Đ, sai ghi S vào ô trống: (1 điểm)

a.  $8 + 9 = 16$

b.  $5 + 7 = 12$

**Bài 5:** Đặt tính rồi tính: (2 điểm)

a.  $57 + 26$

b.  $39 + 6$

c.  $81 - 35$

d.  $90 - 58$

.....

.....

.....

.....

.....

.....

.....

.....

.....

.....

.....

.....

**Bài 6:** Khoanh vào chữ đặt trước câu trả lời đúng: (1 điểm)

a.  $8 \text{ dm} + 10 \text{ dm} = \dots \text{ dm}$

A. 18 dm

B. 28 dm

C. 38 dm

b. Tìm x biết:  $X + 10 = 10$

A.  $x = 10$

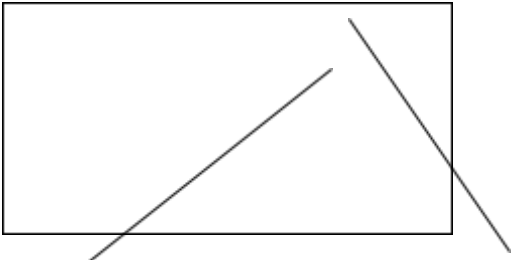
B.  $x = 0$

C.  $x = 20$

**Bài 7:** Khoanh vào chữ đặt trước câu trả lời đúng: (1 điểm)

a. Có bao nhiêu hình chữ nhật?





- A. 1 hình
- B. 2 hình
- C. 3 hình

b. Có bao nhiêu hình tam giác?

- A. 2 hình
- B. 3 hình
- C. 4 hình

**Bài 8:** (2 điểm)

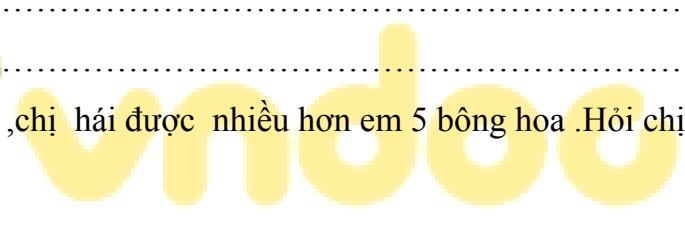

a. Nhà bạn Mai nuôi 44 con gà. Nhà bạn Hà nuôi ít hơn nhà bạn Mai 13 con gà. Hỏi nhà bạn Hà nuôi bao nhiêu con gà? (1 điểm)

.....

.....

.....

b. Em hái được 20 bông hoa, chị hái được nhiều hơn em 5 bông hoa. Hỏi chị hái được mấy bông hoa? (1 điểm)



.....

.....

.....

**ĐỀ SỐ 2)**



ĐỀ KIỂM TRA ĐỊNH KÌ LẦN 2 (SỐ 2)

MÔN TOÁN - lớp 2

**Bài 1: Số ?**

10, 20, 30,.....,.....,60, .....80,.....,100.

**Bài 2:** Đúng ghi Đ, sai ghi S vào chỗ ..... của từng phép tính

a,  $12 - 8 = 5$  .....

c,  $17 - 8 = 9$  .....

b,  $24 - 6 = 18$  .....

d,  $36 + 24 = 50$ .....

**Bài 3:** Đặt tính rồi tính:  $32 - 25$

$94 - 57$

$53 + 19$

$100 - 59$

.....  
.....  
.....

**Bài 4:** Tìm x: a,  $x + 30 = 80$

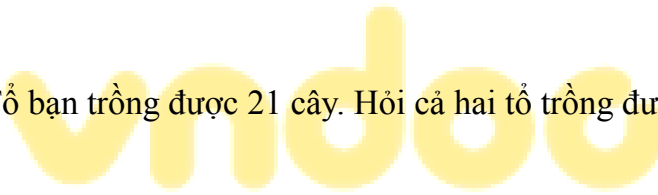

b,  $x - 22 = 38$

.....  
.....  
.....

**Bài 5:**

a, Tổ em trồng được 17 cây. Tổ bạn trồng được 21 cây. Hỏi cả hai tổ trồng được bao nhiêu cây ?

b, Quyển truyện có 85 trang. Tâm đã đọc 79 trang. Hỏi Tâm còn phải đọc mấy trang nữa thì hết quyển truyện ?



**Bài 6:** Viết tiếp vào chỗ chấm



17 giờ hay .....giờ chiều

24 giờ hay .....giờ đêm

**Bài 7:** Xem tờ lịch tháng 5 dưới đây rồi trả lời câu hỏi:

	Thứ hai	Thứ ba	Thứ tư	Thứ năm	Thứ sáu	Thứ bảy	Chủ nhật
<b>Tháng 5</b>		1	2	3	4	5	<b>6</b>
	7	8	9	10	11	12	<b>13</b>
	14	15	16	17	18	19	<b>20</b>
	21	22	23	24	25	26	<b>27</b>
	28	29	30	31			

- Ngày 19 - 5 là thứ ..... - Trong tháng 5 có .... ngày chủ nhật. Đó là những ngày

.....

- Tuần này, thứ năm là ngày 17. Tuần trước, thứ năm là ngày ... . Tuần sau, thứ năm là ngày....

- Em được nghỉ học thứ bảy và chủ nhật. Vậy em đi học tất cả ..... ngày.

**Bài 8:** Viết phép trừ có số bị trừ, số trừ và hiệu bằng nhau

.....

.....

**Bài 9:** Vẽ một đường thẳng và đặt tên cho đường thẳng đó.

.....

.....

.....

**ĐỀ SỐ 3)**



Trường: .....

KIỂM TRA CUỐI HỌC KÌ I

Lớp: .....

MÔN: TOÁN - KHỐI 2

Họ và tên: .....

Năm học: 2011– 2012

Thời gian: 60 phút.

**Bài 1.** (2 điểm) Hãy khoanh tròn vào chữ đặt trước câu trả lời đúng:

a/  $39 + 6 = ?$

- A. 44                      B. 45                      C. 46                      D. 99

b/  $17 - 9 = ?$

- A. 8                        B. 9                        C. 10                      D. 12

c/  $98 - 7 = ?$

- A. 28                      B. 91                      C. 95                      D. 97

d/  $8 + 6 = ?$

- A. 14                      B. 15                      C. 86                      D. 68

**Bài 2:** Đặt tính rồi tính: (2 điểm)


$27 + 69$

$14 + 56$

$77 - 48$

$63 - 45$

.....  
.....  
.....



.....  
.....  
.....

**Bài 3:** Tìm x: (1 điểm)

$x + 20 = 48$

$x - 22 = 49$

.....  
.....

.....  
.....

**Bài 4:** Điền dấu >, <, = (1 điểm)

$13 + 29$  .....  $28 + 14$

$97 - 58$  .....  $32 + 5$

**Bài 5:** (1 điểm)

a/ Xem lịch rồi cho biết:

11	Thứ hai	7	14	21	28	
	Thứ ba	1	8	15	22	29
	Thứ tư	2	9	16	23	30
	Thứ năm	3	10	17	24	
	Thứ sáu	4	11	18	25	
	Thứ bảy	5	12	19	26	
	<b>Chủ nhật</b>	<b>6</b>	<b>13</b>	<b>20</b>	<b>27</b>	

- Tháng 11 có ..... ngày.
- Có ..... ngày chủ nhật.

b. Đồng hồ chỉ mấy giờ?

.....




**Bài 6.** (2 điểm)

a. Anh cân nặng 47 kg, em nhẹ hơn anh 19 kg. Hỏi em cân nặng bao nhiêu ki-lô-gam?

Bài giải

.....  
.....  
.....

b. Thùng bé đựng được 51 lít nước, thùng lớn đựng nhiều hơn thùng bé 19 lít nước. Hỏi thùng lớn đựng được bao nhiêu lít nước?

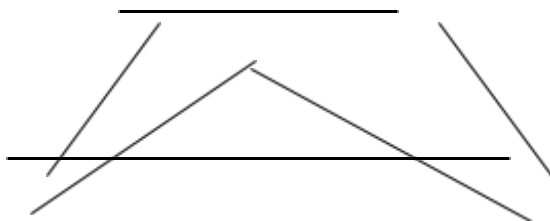


Bài giải  
vndoc

**Bài 7:** (1 điểm)

Trong hình bên :

- a/ Có ..... hình tam giác.
- b/ Có ..... hình tứ giác.



**ĐỀ SỐ 4**

Trường: .....

Lớp: .....

Họ và tên: .....

**ĐỀ KIỂM TRA CUỐI HỌC KÌ I**

**MÔN: TOÁN KHỐI 2**

**Năm học: 2011 – 2012**

Thời gian: 60 phút

**Bài 1: (1 điểm)**

Tính nhẩm:

$16 + 3 = \dots$

$14 - 8 = \dots$

$15 - 6 = \dots$

$9 + 7 = \dots$

**Bài 2: (2 điểm)**

Đặt tính rồi tính :

a)  $35 + 44$

b)  $46 + 25$

c)  $80 - 47$

d)  $39 - 16$

.....  
.....  
.....

.....  
.....  
.....


.....  
.....  
.....

**Bài 3: (1 điểm)**

Số : ?

a)  $161 + 51 - 101 =$

b)  $24\text{kg} - 13\text{kg} + 4\text{kg} =$



**Bài 4: (2 điểm)**

Tìm X biết:

a)  $X + 16 = 73$

b)  $X - 27 = 57$

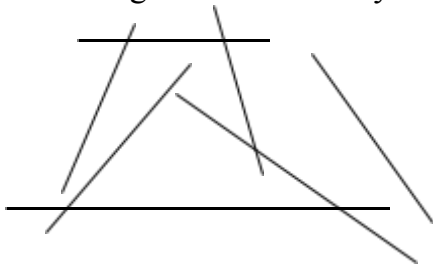
.....  
.....

.....  
.....

**Bài 5: (1 điểm)**

Nhận dạng hình :

Trong hình vẽ dưới đây:



a) Có ... hình tam giác.

b) Có ... hình tứ giác.

**Bài 6:** (1 điểm)

Điền số thích hợp để được phép tính đúng :

	+		=	100
--	---	--	---	-----

	-		=	50
--	---	--	---	----

**Bài 7:** (2 điểm)

a) Mẹ 34 tuổi, Cha hơn Mẹ 6 tuổi. Hỏi Cha bao nhiêu tuổi ?

**Bài giải**

.....

.....

.....

.....

b) Anh Tùng học lớp 5 cân nặng 43 kg, bạn Tuấn học lớp 2 nhẹ hơn anh Tùng 15 kg.  
Hỏi bạn Tuấn cân nặng bao nhiêu kilôgam ?

**Bài giải**

.....

.....

.....



## ĐỀ SỐ 5)

**Bài 1)** (2đ) Đặt tính rồi tính:

$54 + 36$

$27 + 63$

$54 - 38$

$88 - 49$

.....  
.....  
.....

**Bài 2)** (2đ) Tìm X

a)  $x - 36 = 52$


b)  $92 - x = 45$

.....  
.....

**Bài 3)** (2đ)

Trong một ngày, cửa hàng bán được 56 kg đường, trong đó buổi sáng bán được 27kg. Hỏi buổi chiều bán được bao nhiêu kg đường?

*Bài giải*



vndoc

**Bài 4)** (2đ) Khoanh tròn vào chữ cái trước kết quả đúng

a/  $28 + 36 + 14 = ?$

b/  $76 - 22 - 38 = ?$

A. 68

A. 26

B. 78

B. 15

C. 79

C. 16


**Bài 5)** (1đ) Hình bên có:

.....tam giác

.....tứ giác

**Bài 6)** (1đ) Viết phép tính có hiệu bằng số bị trừ

$$\square - \square = \square$$



## ĐỀ SỐ 6

### Môn toán lớp 2 cuối kì 1 (Thời gian làm bài 40 phút)

**Phần 1:** Mỗi bài tập dưới đây có kèm theo một số câu trả lời A, B, C ( là đáp số kết quả tính). Hãy khoanh vào chữ đặt trước câu trả lời đúng.

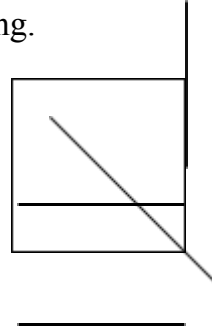
1, Cho hình vẽ:

a) Số hình vuông có trong hình vẽ là:

A. 4      B. 5      C. 6

b) Số hình tam giác có trong hình vẽ là

A. 4      B. 5      C. 6



2, Cho phép tính:  $53 - 36$ . Kết quả của phép tính trên là:

A. 27      B. 17      C. 37

**Phần 2:** 1, Đặt tính rồi tính

$36 + 24 =$

$25 + 57 =$

$18 + 35 =$


$47 + 28 =$

$36 + 24 =$

$25 + 57 =$

$18 + 35 =$

$47 + 28 =$



$53 - 28 =$

$60 - 27 =$

$63 - 26 =$

$74 - 25 =$

$53 - 28 =$

$60 - 27 =$

$63 - 26 =$

$74 - 25 =$

2, Tìm x:

$x - 29 = 52$

$43 - x = 41$

$x + 45 = 63$

3. Giải bài toán:



Lan hái được 34 bông hoa, Mai hái được ít hơn Lan 8 bông hoa. Hỏi Mai hái được bao nhiêu bông hoa?

**ĐỀ SỐ 7)**

Môn Toán lớp 2 (Thời gian làm bài 40 phút)

Bài 1: Khoanh vào chữ đặt trước câu trả lời đúng

a/  $85 - 39 = ?$

- A. 45                  B. 46                  C. 55                  D. 56

b/  $29 - 5 + 15 = ?$

- A. 49                  B. 39                  C. 19                  D. 9

Bài 2: Viết các số vào ô trống

Đọc	Viết
Tám mươi lăm	
Chín mươi chín	

Bài 3: Đặt tính rồi tính

$43 + 57$

$92 - 75$

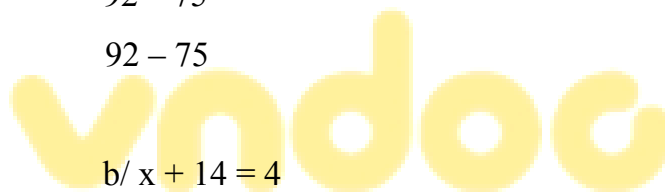

$43 + 57$

$92 - 75$

Bài 4: Tìm x

a/  $x - 22 = 38$

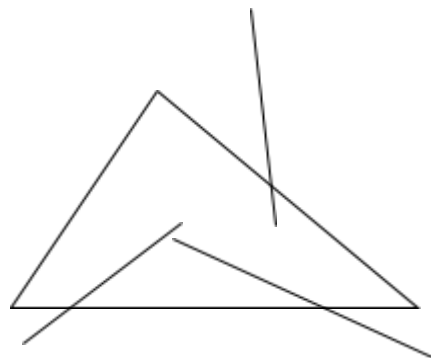
b/  $x + 14 = 4$



Bài 5: Một cửa hàng buổi sáng bán được 45 kg đường, buổi chiều bán được ít hơn buổi sáng 24 kg đường. Hỏi buổi chiều cửa hàng đó bán được bao nhiêu ki lô gam đường?

Bài 6: Hình vẽ bên có mấy hình tam giác?

Hình vẽ trên có..... hình tam giác.



**ĐỀ SỐ 8)** Môn Toán lớp 2

Bài 1: Viết số thích hợp vào ô trống

Số hạng	38	15	25	
Số hạng	27		25	32
Tổng		60		82

Số bị trừ	11		64	90
Số trừ	4	34		
Hiệu		15	34	38

Bài 2: Tính :

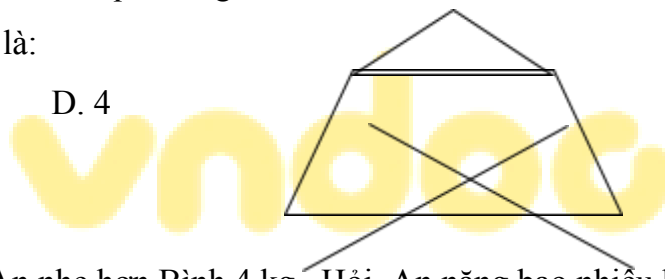

a)  $72 - 36 + 24 =$

b)  $36 + 24 - 18$

Bài 3: Khoanh vào chữ đặt trước kết quả đúng

Số hình tứ giác trong hình vẽ là:

- A. 1 B. 2 C. 3 D. 4



Bài 4: Bình cân nặng 28 kg, An nhẹ hơn Bình 4 kg . Hỏi An nặng bao nhiêu ki lô gam?

Bài giải

Bài 5: Điền số thích hợp vào chỗ chấm

- a) Một ngày có ..... giờ  
b) 15 giờ hay .....giờ chiều  
c) Từ 7 giờ sáng đến 10 giờ sáng cùng ngày là .... giờ.

Bài 6: Tính nhanh



$$10 - 9 + 8 - 7 + 6 - 5 + 4 - 3 + 2 - 1$$

**ĐỀ SỐ 9)**

Họ và tên: .....

BÀI KIỂM TRA CUỐI HỌC KÌ I – MÔN: TOÁN

Lớp: .....

Lớp 2 - Năm học: 2010 – 2011

*Thời gian làm bài 40 phút (không kể thời gian giao đề)*

Bài 1. Viết số thích hợp vào chỗ chấm:


a) 57; 58; 59; .....; 64.

b) 83; 84; 85; .....; 97.

Bài 2. ?

a)

Số hạng	8	8
Số hạng	7	8
Tổng		



vndoc

b)

Số bị trừ	13	15
Số trừ	6	7
Hiệu		

Bài 3. Đúng ghi Đ, sai ghi S vào ô trống:

a)  $9 + 8 = 17$

b)  $15 - 8 = 6$

c)  $16 - 9 = 8$

d)  $6 + 8 = 14$

Bài 4. ?

a)  $16l + 5l - 10l =$   l

b)  $24kg - 13kg + 4kg =$   kg

Bài 5. Đặt tính rồi tính:

$46 + 35$

$53 - 28$

$36 + 54$

$80 - 47$



vndoc

.....  
.....  
.....

Bài 6. Anh Hoàng cân nặng 46kg, Minh cân nhẹ hơn anh Hoàng 18kg. Hỏi Minh cân nặng bao nhiêu ki-lô-gam?


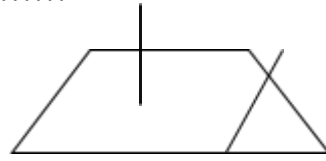
*Bài giải*

.....  
.....  
.....

Bài 7. Viết số thích hợp vào chỗ chấm:

Hình vẽ bên:

- a) Có ..... hình tam giác.
- b) Có ..... hình tứ giác.



vndoc

**ĐỀ SỐ 10)**

Trường tiểu học Phúc sơn

Thứ      ngày      tháng      năm 2010

Họ Và Tên:.....

Kiểm tra định CUỐI HKI

Lớp 2.....

Mụn: Toản

Thời gian: 40 phút

**I . Trắc nghiệm khách quan:**

*Khoanh vào chữ cái trước ý đúng trong mỗi câu sau:*

**Bài 1.** Số liền trước 50 là

A. 49

B. 51

C. 48

**Bài 2.** Số lớn nhất có hai chữ số là:

A. 88

B. 99

C. 90

**Bài 3.** Hình vẽ bên có mấy hình tam giác?

A. 3

B. 4

C. 5



**Bài 4.** Câu nào đúng?

A. Một ngày có 24 giờ

B. Một ngày có 12 giờ

C. Một ngày có 20 giờ

**Bài 5.** Tính tổng , biết các số hạng là 48 và 17.

A.56

B. 65

C. 45

**Bài 6 .**Tìm x :       $x + 16 = 30$

A.15

B. 16

C. 14

**Bài 7 .** Tính kết quả       $86 - 6 - 9 = ?$

A. 71

B. 70

C. 81

**Bài 8 .** Mẹ hái được 55 quả cam , mẹ biếu bà 20 quả cam . Hỏi mẹ còn lại bao nhiêu quả cam?

A .30 quả

B. 35 quả

C.25 quả

**II. Trắc nghiệm tự luận:**

**Bài 3.** Đặt tính rồi tính :

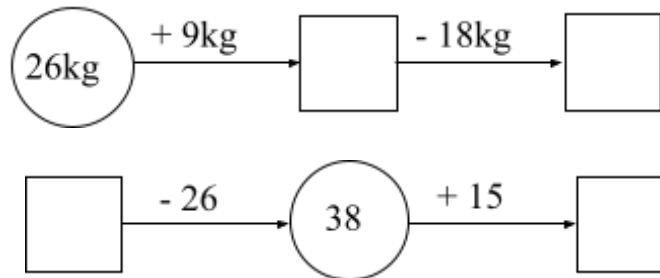
$46 + 49$

$83 - 35$

$80 - 43$

$45 + 39$

**Bài 2.**



**Bài 3.** Tính

$34 + 66 - 20 =$

=

$85 - 15 + 12 =$

=

**Bài 4 .** Một cửa hàng buổi sáng bán được 83 l dầu , buổi chiều bán được ít hơn buổi sáng 27l dầu. Hỏi buổi chiều cửa hàng đó bán được bao nhiêu l dầu?



**Bài giải**

vndoc

**Bài 5 .** Điền số còn thiếu vào ô trống

$$\begin{array}{r} 4... \\ - 17 \\ \hline 23 \end{array}$$

$$\begin{array}{r} .... \\ - 37 \\ \hline 49 \end{array}$$

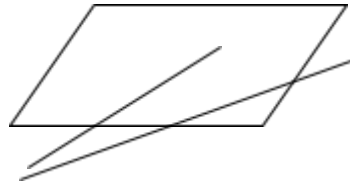




.....

**Câu 2 (1 đ) Hình bên có :**

- a) ..... hình tam giác
- b) ..... hình tứ giác



**Câu 3 (2 đ): Đặt tính và tính:**

- a)  $58 + 29$
- b)  $91 - 89$
- c)  $52 + 15$
- d)  $100 - 71$

**Câu 4 (1 đ): Tính:**

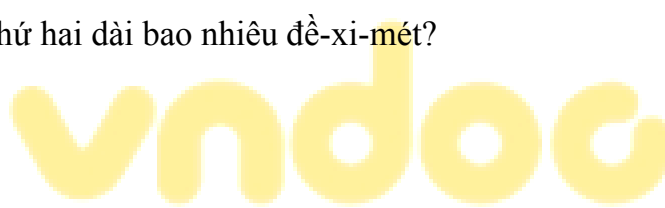
$7 + 79 + 8 = \dots\dots\dots$        $79 - 21 - 35 = \dots\dots\dots$

$85 - 23 + 16 = \dots\dots\dots$        $20 + 42 - 30 = \dots\dots\dots$

**Câu 5 (1 đ): Tìm X biết a)  $56 - x = 27$**

**b)  $x + 18 = 71 - 23$**

**Câu 6 (2 đ):** Đoạn thẳng thứ nhất dài 63 dm. Đoạn thẳng thứ hai ngắn hơn đoạn thẳng thứ nhất 14 dm. Hỏi đoạn thẳng thứ hai dài bao nhiêu đề-xi-mét?



**ĐỀ SỐ 12)**

Phòng gd&dt  
Huyện lập thạch



**BÀI KIỂM TRA ĐỊNH KÈ CUỐI KÈ 1**

**Môn: TOÁN 2**

**Thời gian làm bài: 40 phút (không kể thời gian giao đề)**

**I/Trắc nghiệm (3 ĐIỂM):** Mỗi bài tập dưới đây có 4 phương án trả lời (là đáp số, kết quả tính, ... ). Em hãy chọn phương án trả lời đúng.

**1. Số 59 đọc là:**

- A. Năm chín      B. Năm mươi chín      C. Chín năm      D. Chín mươi lăm

**2. Ngày 22 tháng 12 năm 2008 là thứ Hai. Ngày đầu tiên của năm 2009 là thứ mấy?**

- A. Thứ Hai      B. Thứ Ba      C. Thứ Tư      D. Thứ Năm

**3. Số lớn nhất có 2 chữ số khác nhau là:**

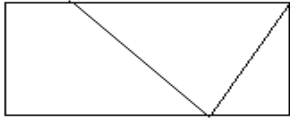
- A. 99      B. 89      C. 98      D. 100

**4. 92 bằng tổng của hai số nào trong các cặp số sau đây?**

- A. 32 và 50      B. 55 và 47      C. 37 và 55      D. 55 và 47

**5. Hình vẽ dưới đây có bao nhiêu hình tứ giác?**





A. 2

B. 3

C. 4

D. 5

6. An có 8 viên bi. Hùng có nhiều hơn An 2 viên bi. Hỏi Hùng có bao nhiêu viên bi?

A. 10

B. 10 viên bi

C. 10 (viên bi)

D. 6 viên bi

## II/ PHẦN TỰ LUẬN (7 ĐIỂM)

**Bài 1 (3 điểm):** Đặt tính rồi tính

$36 + 47$	$100 - 65$	$47 + 37$	$94 - 57$

**Bài 2 (1 điểm):** Tìm a, biết:

$37 + a = 81$	$63 - a = 25$

**Bài 3 (2 điểm):** Một khu vườn có 100 cây đào, sau khi bán đi một số cây đào thì khu vườn còn lại 37 cây đào. Hỏi đã bán bao nhiêu cây đào?

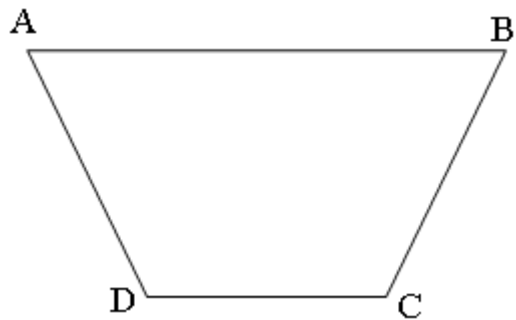
**Bài giải:**

**Bài 4 (1 điểm):**

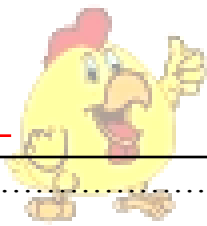


Hãy vẽ thêm một đoạn thẳng vào hình bên để có 1 hình tam giác và 2 hình tứ giác.  
 Đọc tên các hình đó?

.....  
 .....  
 .....  
 .....  
 .....



**ĐỀ SỐ 13)**



Họ tên HS: .....	<b>KIỂM TRA CUỐI HK1 (2010-2011)</b>	Điểm:
Lớp: .....	<b>MÔN: Toán lớp 2</b>	GK(ký):
Trường TH số 2 Nam Phước	<b>Thời gian: 40 phút</b>	

1.(1 điểm): Viết số thích hợp vào chỗ chấm :

a/ 78 ; 79 ; 80 ; .....; 85

b/ 76 ; 78 ; 80 ; .....; 90

2.(1 điểm): Viết số liền trước, liền sau vào chỗ chấm cho thích hợp:

Số liền trước	Số đã cho	Số liền sau
.....	25	.....
.....	90	.....

3.(1 điểm): Đúng ghi Đ, sai ghi S vào ô trống:



a/  $9 + 7 = 17$

b/  $13 - 8 = 6$

c/  $16 - 9 = 7$

d/  $8 + 9 = 17$

4.( 2 điểm): Đặt tính rồi tính :

31 + 15	53 - 28	36 + 26	100 - 36

5.(1 điểm): Tìm x:

$89 - x = 36$

$x + 6 = 45$

.....


.....

.....

.....

6.(1 điểm): Lớp 2A có 26 học sinh, lớp 2B có nhiều hơn lớp 2A 6 học sinh. Hỏi lớp 2B có bao nhiêu học sinh?

**Giải:**



vndoc

.....

.....

.....

.....

.....

7. ( 2 điểm): Xem tờ lịch tháng 2 dưới đây rồi trả lời câu hỏi :

Tháng	Thứ hai	Thứ ba	Thứ tư	Thứ năm	Thứ sáu	Thứ bảy	Chủ nhật
2				1	2	3	4
	5	6	7	8	9	10	11
	12	13	14	15	16	17	18
	19	20	21	22	23	24	25
	26	27	28				

Trong tháng 2:

a. Có ..... ngày thứ năm.

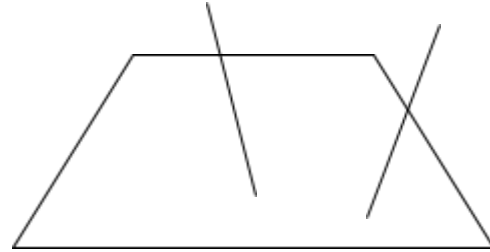


- b. Các ngày thứ năm là:.....
- c. Ngày 17 tháng hai là ngày thứ :.....
- d. Có tất cả ..... ngày.

8. (1điểm): Viết số thích hợp vào chỗ chấm:

Hình vẽ bên :

- a. Có ..... hình tam giác
- b. Có ..... hình tứ giác



vndoc

**ĐỀ SỐ 14)**

**KIỂM TRA HỌC KỲ 1**

**NĂM HỌC 2010-2011**

Ngày kiểm tra: 23 - 12 - 2010

Chữ ký giám khảo	Số mật mã:
---------------------	------------

**Môn: TOÁN – Lớp Hai**

Thời gian làm bài: 35 phút (Không kể thời gian giao đề)

**Bài 1:** Tính: (2,5 điểm)

a/  $8 + 4 = \dots$                        $7 + 9 = \dots$                        $15 - 9 = \dots$                        $13 - 6 = \dots$

b/  $16 + 5 - 10 = \dots$                        $24 - 13 + 4 = \dots$                        $51 - 19 - 5 = \dots$

**Bài 2:** Đặt tính rồi tính: (2 điểm)

$47 + 25$

$93 - 28$

$56 + 34$

$100 - 47$

.....

.....

.....

.....

.....

.....

.....

.....



**Bài 3:** Tính  $x$  (1,5 điểm):

$$x + 18 = 42$$

$$x - 32 = 58$$

$$60 - x = 16$$

**Bài 4:** Xem tờ lịch tháng 12 dưới đây rồi trả lời câu hỏi: (1 điểm)

	Thứ hai	Thứ ba	Thứ tư	Thứ năm	Thứ sáu	Thứ bảy	Chủ nhật
			1	2	3	4	5
Tháng	6	7	8	9	10	11	12
12	13	14	15	16	17	18	19
	20	21	22	23	24	25	26
	27	28	29	30	31		

a/ Có ..... ngày thứ bảy. Đó là các ngày .....

b/ Ngày 23 tháng 12 là thứ .....

c/ Tháng 12 có ..... ngày.

**Bài 5:** a/ Một cửa hàng có 85 chiếc xe đạp, đã bán được 27 chiếc xe đạp. Hỏi cửa hàng còn lại bao nhiêu chiếc xe đạp?(1 đ)

Bài giải

b/ Mẹ vắt được 67 lít sữa bò, chị vắt được 33 lít sữa bò. Hỏi mẹ và chị vắt được bao nhiêu lít sữa bò? (1 đ)

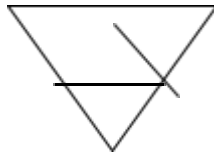
Bài giải



**Bài 6:** (1 điểm) Khoanh vào chữ đặt trước câu trả lời đúng:


a/ Số hình tam giác là:

- A/ 3 hình
- B/ 2 hình
- C/ 1 hình



b/ Số hình tứ giác là:

- A/ 2 hình
- B/ 3 hình
- C/ 4 hình

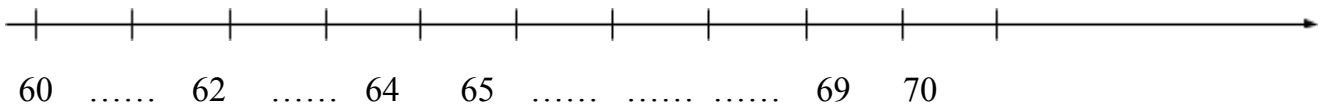


vndoc

**ĐỀ SỐ 15)**

**Trường Tiểu học Toàn Thắng   Bài kiểm tra định kì Cuối kì I**  
**Năm học: 2010-2011**

Câu 1: (0,5 điểm )



Câu 2: ( 0,5 điểm)

Đọc số	Viết số
Tám mươi tư	.....
.....	76

Câu 3: Số ? (1 điểm)



+9

+4

$$\boxed{17} - 8$$

$$\boxed{19} - 12 \rightarrow$$

Câu 4: Đúng ghi Đ, sai ghi S vào ô trống: ( 1 điểm)

$9 + 5 = 14$

$18 - 9 = 9$

$7 + 9 = 17$

$15 - 7 = 9$

Câu 5: (2 điểm) Đặt tính rồi tính:

$46 + 28$

$72 - 36$

$46 + 34$

$90 - 47$

.....


.....

.....

Câu 6: Tìm X (1 điểm)

$X + 40 = 90$

$X - 16 = 58$



Câu 7: Giải toán: (3 điểm)

a, Quang cân nặng 38 kg. Minh cân nặng hơn Quang 6 kg. Hỏi Minh cân nặng bao nhiêu ki-lô-gam?

.....

.....

.....

b, Một cửa hàng có 65 chiếc xe đạp, đã bán được 28 chiếc xe đạp . Hỏi cửa hàng còn lại bao nhiêu chiếc xe đạp?

.....

.....

.....

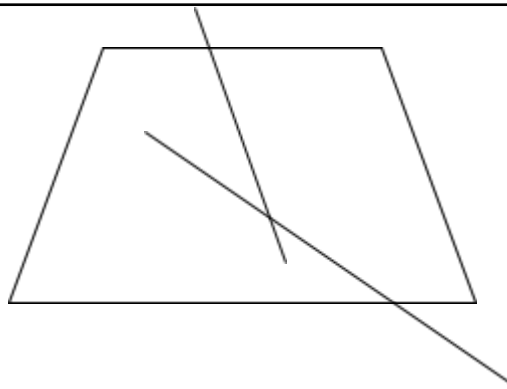


Câu 8: (1 điểm)

Hình bên có:

-..... hình tứ giác.

-..... hình tam giác.



**ĐỀ SỐ 16)**

Họ và tên HS: .....	<b>KIỂM TRA ĐỊNH KỲ CUỐI HỌC KỲ I Môn : TOÁN- LỚP HAI</b>	<b>Chữ ký GT</b>	<b>Số mật mã</b>
Lớp:.....Trường: Lê Thị Hồng Gấm Năm học: 2010 - 2011 Số BD : ..... Phòng : .....			<b>Số TT</b>
Ngày kiểm tra: ...../ 12../ 2010.			

**Bài 1:** ?

**36, 38, ..., 42, ..., ..., ....., 50.**

**Bài 2: Nối phép tính với kết quả của phép tính đó**

6 + 9

16

17 - 9

13

6 + 7

15



**Bài 3: Đúng ghi Đ, sai ghi S vào ô trống**

a)  $9 + 7 = 16$

b)  $18 - 9 = 13$

c)  $18 - 9 = 10$

d)  $15 - 4 = 11$

**Bài 4: Khoanh vào chữ cái đặt trước kết quả đúng**

$28 + 4 = ?$

A . 68


B . 23

C . 32

D . 32m

**Bài 5: Đặt tính rồi tính**

$26 + 35$



$26 + 59$

$75 - 17$

$60 - 43$

.....  
.....  
.....

**Bài 6 : Tìm x**

$x + 17 = 24$

$45 - x = 19$

.....  
.....  
.....

**Bài 7: Một cửa hàng buổi sáng bán được 74 kilô gam đường, buổi chiều bán ít hơn buổi sáng 15 kilô gam đường. Hỏi buổi chiều cửa hàng đó bán được bao nhiêu kilô gam đường?**

**Bài giải :**

.....  
.....  
.....  
.....

b . Bình nhỏ đựng 14lít nước, bình lớn đựng nhiều hơn bình nhỏ 6lít nước. Hỏi bình lớn đựng bao nhiêu lít nước ?

**Bài giải :**


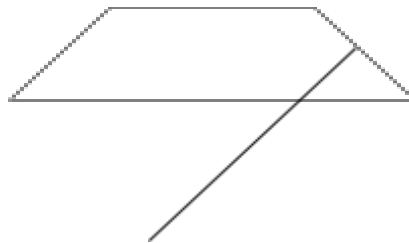
Tóm tắt.....  
.....  
.....  
.....  
.....

**Bài 8: Viết số thích hợp vào chỗ trống**

Hình vẽ bên

a . Có ..... tam giác.

b . Có ..... tứ giác



vndoc

**ĐỀ SỐ 17)**

PHÒNG GD ĐT ĐỒNG HỚI  
**TRƯỜNG TH BẮC NGHĨA**

**BÀI KIỂM TRA ĐỊNH KÌ HỌC KÌ I MÔN TOÁN LỚP 2**

**Năm học 2010 - 2011**

Thời gian làm bài: 40 phút

Họ và tên: ..... Lớp: ..... Số báo danh: .....

**ĐỀ CHẤM**

**Bài 1:**(2 điểm) *Khoanh vào chữ cái đứng trước phương án đúng.*

a/ Kết quả của phép cộng  $67 + 26$  là :

A. 83

B. 93

C. 94

D. 95

b/ Phép trừ  $100 - 57$  có kết quả là:



A. 53.

B. 44

C. 43

D. 33

c/ Tổng nào dưới đây bé hơn 56?

A.  $50 + 8$

B.  $49 + 7$

C.  $36 + 29$

D.  $48 + 6$

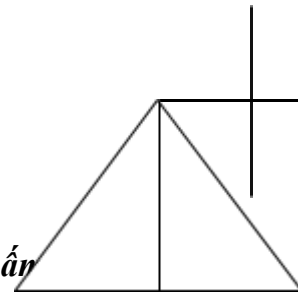
d/ Số hình tam giác có trong hình bên là:

A. 2

B. 3

C. 4

D. 5



**Bài 2:** (1 điểm) *Điền số hoặc dấu (>, <, =) thích hợp vào chỗ chấm*

a/  $42 + 15 \dots\dots\dots 55$

b/  $100 - 67 \dots\dots\dots 43$

c/ 8 giờ tối còn gọi là ..... giờ.

d/ Ngày 1 tháng 1 năm 2011 là ngày thứ 7. Thứ bảy tuần sau đó là ngày ..... tháng .....


**Bài 3:** (2 điểm) *Đặt tính và tính:*

a/  $36 + 28$

b/  $75 - 37$

c/  $100 - 73$

d/  $29 + 17$



vndoc

**Bài 4:** (1 điểm) *Tính:*

a/  $48 + 25 - 38$

b/  $100 - 38 + 15$

**Bài 5:** (1 điểm) *Tìm x, biết:*

a/  $x + 37 = 73$

b/  $42 - x = 30$

**Bài 6:** (2 điểm) *Bài giải.*


---

Thùng gạo tẻ có 53 kg, Thùng gạo nếp có ít hơn thùng gạo tẻ 8 kg. Hỏi thùng gạo nếp có bao nhiêu ki - lô - gam?

Bài giải

**Bài 7.** (1 điểm) *Tính nhanh:*

$$48 + 49 - 9 - 8$$



vndoc

....

**ĐỀ SỐ 18)**

PHÒNG GDĐT ĐỒNG HỚI

**TRƯỜNG TH BẮC NGHĨA**

**BÀI KIỂM TRA ĐỊNH KÌ HỌC KÌ I MÔN TOÁN LỚP 2**

**Năm học 2010 - 2011**

Thời gian làm bài: 40 phút



Họ và tên: ..... Lớp: ..... Số báo danh: .....

**Bài 1:** (2 điểm) *Khoanh vào chữ cái đứng trước phương án đúng.*

a/ Kết quả của phép cộng  $76 + 16$  là :

- A. 82                      B. 72                      C. 93                      D. 92

b/ Phép trừ  $100 - 75$  có kết quả là:

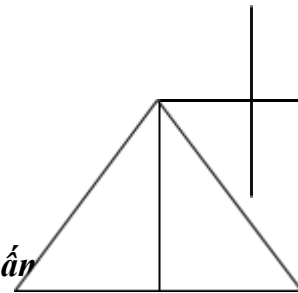
- A. 35.                      B. 25                      C. 15                      D. 16

c/ Hiệu nào dưới đây lớn hơn 56?

- A.  $59 - 8$                       B.  $69 - 10$                       C.  $56 - 0$   
D.  $58 - 3$

d/ Số hình tam giác có trong hình bên là:

- A. 2                      B. 3                      C. 4                      D. 5



**Bài 2:** (1 điểm) *Điền số hoặc dấu (>, <, =) thích hợp vào chỗ chấm*

a/  $42 + 15$  ..... 75                      b/  $100 - 42$  ..... 43

c/ 10 giờ đêm còn gọi là ..... giờ.

d/ Ngày 1 tháng 1 năm 2011 là ngày thứ sáu. Thứ sáu tuần sau đó là ngày ..... tháng .....

**Bài 3:** (2 điểm) *Đặt tính và tính:*

a/  $36 + 38$                       b/  $75 - 27$                       c/  $100 - 37$                       d/  $29 + 57$

.....  
.....  
.....  
.....

**Bài 4:** (1 điểm) *Tính:*

a/  $48 + 35 - 38$                       b/  $100 - 28 + 15$

.....  
.....

**Bài 5:** (1 điểm) *Tìm x, biết:*

a/  $x + 37 = 80$                       b/  $42 - x = 22$



**Bài 6:** (2 điểm) **Bài giải.**

Thùng gạo nếp có 53 kg, Thùng gạo tẻ có ít hơn thùng gạo nếp 8 kg. Hỏi thùng gạo tẻ có bao nhiêu ki - lô - gam?

Bài giải

**Bài 7.** (1 điểm) **Tính nhanh:**

$$24 + 65 - 4 - 5$$



vndoc

**ĐỀ SỐ 19)**

Lớp: .....Trường Tiểu học Vạn Phúc

**BÀI KIỂM TRA ĐỊNH KÌ CUỐI HỌC KÌ I**

Họ và tên: .....

Năm học 2009- 2010

**MÔN TOÁN LỚP 2**

Họ và tên giáo coi và chấm:.....

.....

**PHẦN TRẮC NGHIỆM 3 điểm**

**Khoanh vào chữ cái trước câu trả lời đúng**

Câu 1. Số liền trước của 80 là:

- A. 79      B. 80      C. 81      D. 82

Câu 2. Số thích hợp điền vào chỗ chấm  $60 \text{ cm} = \dots \text{ dm}$  là:

- A. 6 dm      B. 6      C. 60      D. 6 cm

Câu 3. Các số 28; 37; 46; 52 được viết theo thứ tự từ lớn đến bé là:

- A. 46; 37; 52; 28      B. 28; 37; 46; 52      C. 52; 46; 37; 28      D. 52; 37; 46; 28

Câu 4. Số lớn hơn 74 và nhỏ hơn 76 là:

- A. 73      B. 77      C. 75      D. 76

Câu 5. Hiệu của 64 và 31 là:

- A. 33      B. 77      C. 95      D. 34

Câu 6. Lan và Hồng có 22 quyển truyện tranh. Nếu lấy bớt của Hồng 5 quyển thì hai bạn còn lại bao nhiêu quyển truyện tranh?

Hai bạn còn lại số quyển truyện tranh là:

- A. 27      B. 17      C. 22      D. 15

**PHẦN TỰ LUẬN: 7 điểm**

Bài 1. (2 điểm) Tìm x, biết:

$$x + 15 = 41$$

$$x - 23 = 39$$

Bài 2. (2 điểm) Đặt tính rồi tính

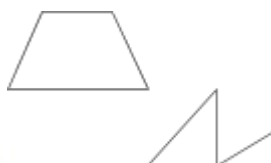
$$44 + 37$$

$$95 - 58$$

$$38 + 56$$

$$66 - 8$$

Bài 3. (1,5 điểm) Hình vẽ bên có bao nhiêu tứ giác?



---

Bài 4. (1,5 điểm). Có hai thùng dầu. Thùng thứ nhất chứa nhiều hơn thùng thứ hai 8 lít dầu, thùng thứ nhất chứa 33 lít dầu. Hỏi thùng thứ hai chứa bao nhiêu lít dầu?



**ĐỀ SỐ 20)**

Trường Tiểu học Hoà Sơn

Đề Kiểm tra cuối học kỳ I năm học 2010 – 2011

**Môn thi : Toán lớp 2**

**Thời gian làm bài: 40 phút**

**Họ và tên:**..... **Lớp:**.....**Số báo danh :**.....

**A- Phần kiểm tra trắc nghiệm.**

**Khoanh vào chữ cái trước đáp án đúng. (Mỗi đáp án đúng cho 0,5 điểm)**

1)  $5\text{dm} = ? \text{cm}$

- A. 50 cm                      B. 5 cm                      C. 4 cm

2) Số bé nhất trong các số : 100, 98, 89, 90 là

- A. 89                      B. 90                      C. 98

3)  $47 + 35 = ?$

- A. 72                      B. 92                      C. 82

4) Số lớn nhất có 2 chữ số mà tổng 2 chữ số của số đó bằng 9 là:

- A. 99                      B. 90                      C. 81

5)  $11 - 7 + 8 = ?$

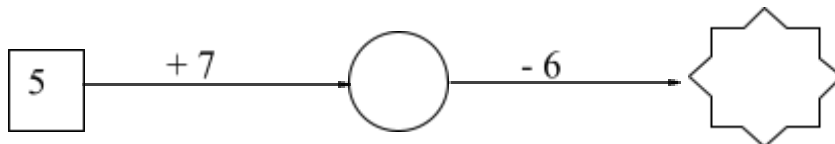
- A. 4                      B. 12                      C. 10

6) Con lợn trắng nặng 75 kg, con lợn đen nhẹ hơn con lợn trắng 18 kg. Hỏi con lợn đen cân nặng bao nhiêu ki-lô-gam ?

- Con lợn đen cân nặng :    A. 93                      B. 57                      C. 67

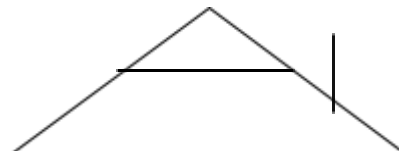
7) 

Số ?
------



8) Hình bên có mấy hình tứ giác:

- A. 2  
B. 3  
C. 4



9) Điền số thích hợp vào chỗ trống:

$5 \square > 58$

- A. 9                      B. 8                      C. 7

---

10 ) Số liền sau của 49 là:

A. 48

B. 51

C. 50

**B- Phần kiểm tra tự luận.**

**Bài 1 (2 điểm) :** Đặt tính rồi tính:

$$38 + 62 ; \quad 72 - 25 ; \quad 64 + 27 ; \quad 100 - 77 ;$$

**Bài 2: (1 điểm)** Tìm x

a.  $x + 28 = 41$

b.  $32 - x = 16 + 7$

**Bài 3: (2 điểm)** Năm nay Lan 8 tuổi, mẹ hơn Lan 27 tuổi. Hỏi năm nay mẹ bao nhiêu tuổi ?



**ĐỀ SỐ 21)**

Trường:.....

ĐỀ KIỂM TRA CUỐI HỌC KÌ I

Lớp:.....

**MÔN: TOÁN – KHỐI 2**

Họ và tên:.....

Thời gian: 60 phút.

Bài 1. (1 điểm) Viết số thích hợp vào chỗ trống:

a/ 62, 63, 64, ....; .....; .....; ....., 70.

b/ 40, 42, 44, .....;.....;.....;....., 56.

Bài 2. (2 điểm) Điền chữ số thích hợp vào ô trống:

31	<input type="text"/> 7	83	97
+	+	-	-
<input type="text"/> 6	42	<input type="text"/> 8	2 <input type="text"/>
-----	-----	-----	-----
77	79	65	76

Bài 3. (1 điểm) Mỗi số 7, 8 là kết quả của phép tính nào?

15 - 8      7      17 - 9      8      15 - 7

16 - 9      16 - 8

Bài 4. (1 điểm) Đặt tính rồi tính:

36 + 43	88 - 65	27 + 15	80 - 46
.....	.....	.....	.....
.....	.....	.....	.....
.....	.....	.....	.....

Bài 5. (1 điểm) Tìm x:

a/  $x - 24 = 34$

b/  $25 + x = 84$

.....

.....

.....



.....  
.....  
Bài 6. (1 điểm) Viết số thích hợp vào chỗ chấm:

a/  $2\text{dm} = \dots\dots\dots \text{cm}$

b/  $9\text{dm} = \dots\dots\dots \text{cm}$

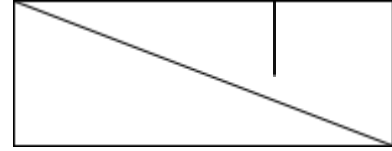
$30\text{cm} = \dots\dots\dots \text{dm}$

$70\text{cm} = \dots\dots\dots \text{dm}$

Bài 7. (1 điểm) Trong hình bên:

a/ Có mấy hình tam giác ?.....hình.

b/ Có mấy hình tứ giác ?.....hình.

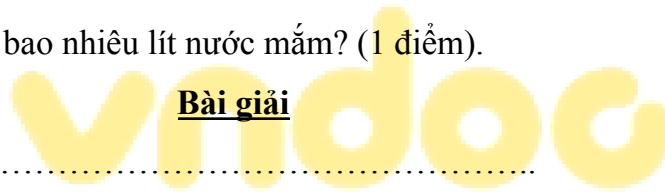


Bài 8. (1 điểm) Năm nay bố 31 tuổi, con kém bố 5 tuổi. Hỏi năm nay con bao nhiêu tuổi?

**Bài giải**

.....  
.....  
.....  
.....  
.....

Bài 9. Lần đầu cửa hàng bán được 25lít nước mắm, lần sau bán được 12 lít nước mắm. Hỏi cả hai lần cửa hàng bán được bao nhiêu lít nước mắm? (1 điểm).



**Bài giải**

.....  
.....  
.....  
.....

**ĐỀ SỐ 22)**

Họ và tên .....

**Bài kiểm tra cuối kì I – năm học 2009- 2010**

Lớp : 2....

**Môn : Toán- Lớp 2**

Trường Tiểu học Quang Khải

*(Thời gian làm bài: 40 phút)*

**I- Trắc nghiệm ( 2 điểm )**

*Mỗi câu trả lời đúng được 0, 5 điểm*

**Câu 1:** Đúng ghi Đ, sai ghi S vào ô trống:

a )  $8 + 7 = 15$

b )  $9 + 5 = 16$

c )  $12 - 3 = 9$

d )  $11 - 4 = 7$

**Câu 2:** Khoanh vào chữ cái đặt trước câu trả lời đúng:

Chủ nhật tuần này là ngày 19 tháng 8. Chủ nhật tuần sau là ngày nào?

A. Ngày 12 tháng 8

B. Ngày 26 tháng 8


**Câu 3:** Khoanh vào chữ đặt trước kết quả đúng:

Số hình chữ nhật có trong hình vẽ là:

a) 3

b) 4

c) 5



**Câu 4:** Đúng ghi Đ, sai ghi S

Một bao gạo chứa 5 chục ki lô gam gạo. Từ bao gạo đó lấy ra 3 kg gạo thì trong bao còn lại bao nhiêu ki lô gam gạo?

a) 20 kg

b) 47 kg

**II-Tự luận (8 điểm)**

**Câu 5:** Đặt tính rồi tính: (2 điểm)

$47 + 35$

$74 - 28$

$47 + 23$

$70 - 46$

**Câu 6:** (2 điểm)

Con lợn cân nặng 32 kg. Con chó nhẹ hơn con lợn 17kg. Hỏi con chó cân nặng bao nhiêu ki lô gam?



---

**Câu 7:** Tìm x: (2 điểm)

a)  $x + 27 = 45$

b)  $x - 27 = 45$

.....  
.....

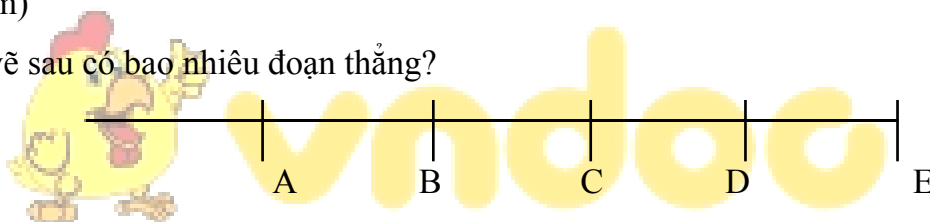
c)  $45 - x = 27$

d)  $25 + x = 18 + 52$

.....  
.....  
.....

**Câu 8:** (1 điểm)

Hình vẽ sau có bao nhiêu đoạn thẳng?



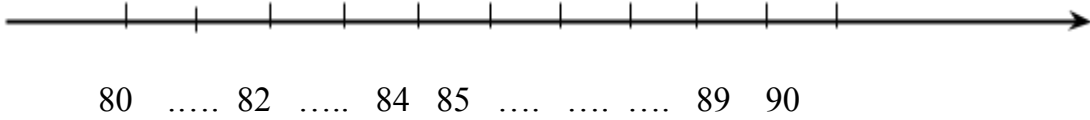
Trả lời:.....

**Câu 9:** (1 điểm)

Hãy viết 2 phép trừ có hiệu bằng số trừ?

**ĐỀ SỐ 23)**

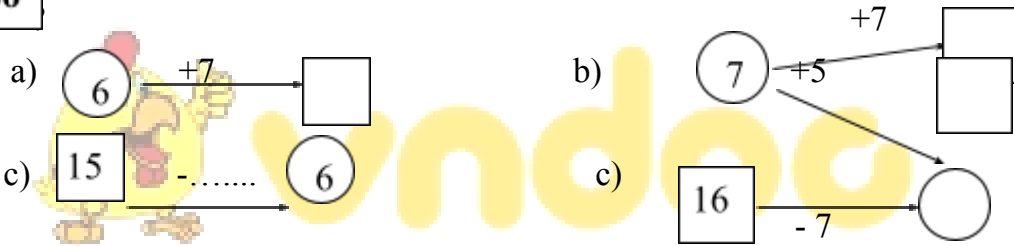
**Bài 1:** Số ?



**Bài 2:** Viết số hoặc chữ thích hợp

đọc số	Viết số
Sáu mươi lăm	.....
.....	46
.....	71
Tám mươi tư	.....

**Bài 3:** Số



**Bài 4:** Đúng ghi Đ, sai ghi S vào ô trống :

a)  $8 + 4 = 13$

b)  $7 + 9 = 16$

**Bài 5:** Đặt tính rồi tính :

$47 + 25$

$64 - 28$

$100 - 36$

$37 + 43$

.....

.....

.....

.....

.....

.....

.....

.....

.....

.....

.....

.....

**Bài 6:** Tìm x

$x + 30 = 50$

$x - 12 = 47$

$x = \dots\dots\dots$

$x = \dots\dots\dots$

$x = \dots\dots\dots$

$x = \dots\dots\dots$

**Bài 7:** Giải toán

Quang cân nặng 26 kg. Minh cân nặng hơn Quang 8 kg. Hỏi Minh cân nặng bao nhiêu kg ?

Tóm tắt:..... Sơ đồ: .....

.....

.....



.....

.....

**Bài giải:**

.....

.....

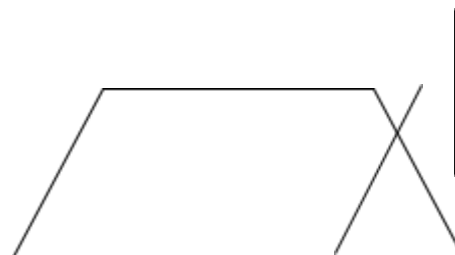
.....

**Bài 8: Khoanh vào đáp án trước kết quả đúng**

a) Số tứ giác trong hình vẽ là :

A. 1                      C. 3

B. 2                      D. 4



b) Số hình tam giác trong hình vẽ là:

A. 4                      C. 2

B. 3                      D. 1

**Bài 9 :** Viết tiếp vào tờ lịch tháng 12 dưới đây rồi trả lời câu hỏi :

	Thứ hai	Thứ ba	Thứ tư	Thứ năm	Thứ sáu	Thứ bảy	Chủ nhật
12	1	2			5		
				11		13	
	15	16			19		
				25			28
	29			31			

Trong tháng 12 :

a) Có .....ngày thứ hai.

Các ngày thứ hai đó là : .....

b) Ngày 22 tháng 12 là thứ .....

c) Tháng 12 có tất cả bao nhiêu ngày : .....

d) Em được nghỉ thứ bảy và chủ nhật. Vậy tháng 12 em được nghỉ .....ngày

**ĐỀ SỐ 24)**

**Bài 1:** Viết số thích hợp vào chỗ chấm :

a) 78;79;80;.....89;

b) 76;78;80; ..... 90


c) 100;95;90;.....15.

**Bài 2:** Viết số liền trước,liền sau vào chỗ chấm thích hợp :

Số liền trước	Số đã cho	Số liền sau
	25	
	60	
	99	

**Bài 3:**Số?

a)



b)

vndoc

Số hạng	9	7
Số hạng	6	7
Tổng		

Số bị trừ	13	15
Số trừ	7	8
Hiệu		

**Bài 4:** Đúng ghi Đ,sai ghi S vào ô trống :

a)  $9 + 7 = 17$

c)  $13 - 8 = 6$



b)  $16 - 9 = 7$

d)  $8 + 9 = 17$

**Bài 5:** Đặt tính rồi tính :

$46 - 35$

$53 - 28$

$36 + 54$

$80 - 47$

.....

.....

.....

.....

.....

.....

.....

.....

.....

.....

.....

.....

**Bài 6:** Số ?

a)  $(35) + 10 \rightarrow \square + 2 \rightarrow \square$

b)  $\square - 12 \rightarrow \square - 8 \rightarrow \square$

**Bài 7:** Giải toán:

a) Anh Hoàng cân nặng 46 kg. Minh cân nhẹ hơn anh Hoàng 18 kg. Hỏi Minh cân nặng bao nhiêu ki-lô-gam?

**Bài giải**



b) Một cửa hàng, ngày đầu bán được 35 chiếc xe đạp, ngày thứ hai bán được 16 chiếc xe đạp. Hỏi cả hai ngày cửa hàng bán được bao nhiêu chiếc xe đạp?

**Bài giải:**

.....  
.....  
.....

**Bài 8:** Viết tiếp vào tờ lịch tháng 2 (năm thường) dưới đây rồi trả lời câu hỏi:

	Thứ hai	Thứ ba	Thứ tư	Thứ năm	Thứ sáu	Thứ bảy	Chủ nhật
2							1
			4				
	9					14	
		17					22



			25			28	
--	--	--	----	--	--	----	--

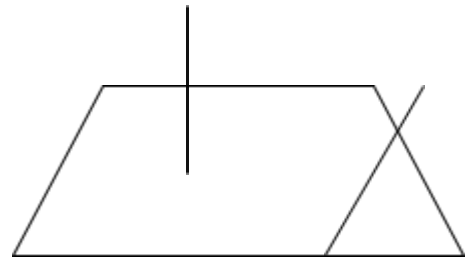
Trong tháng 2:

- Có ..... ngày thứ năm
- Các ngày thứ năm là:.....
- Ngày 17 tháng 2 là ngày thứ :.....
- Có tất cả .....ngày

**Bài 9:** Viết số thích hợp vào chỗ trống

Hình vẽ bên có:

- Có .....tam giác.
- Có .....tứ giác



**ĐỀ SỐ 25)**

**Bài 1:** Số?

a) 7 → 71 → ○ → ○ → ○ → ○ → ○

b) 26 → 28 → □ → 32 → □ → □ → 38

**Bài 2:** Nối mỗi số với cách đọc số đó:

35

40

99

16

Mười sáu

Ba mươi lăm

Bốn mươi

Chín mươi chín

**Bài 3:** Số ?

a)  $5 + 8 = \square$

b)  $6 + 9 = \square$

c)  $\square - 9 = 5$

d)  $\square - 8 = 6$

**Bài 4:** Đặt tính rồi tính:

$47 + 35$

$74 - 28$

$47 + 23$

$70 - 46$

.....

.....

.....

.....

.....

.....

.....

.....

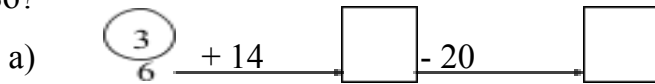
.....

.....

.....

.....

**Bài 5:** Số?



**Bài 6:** Giải toán:

a) Băng giấy màu đỏ dài 75 cm, băng giấy màu xanh ngắn hơn băng giấy màu đỏ 27 cm. Hỏi băng giấy màu xanh dài bao nhiêu xăng-ti-met?

**Bài giải**



b) Thùng bé đựng được 38 ℓ nước, thùng lớn đựng được nhiều hơn thùng bé là 22 ℓ nước. Hỏi thùng lớn đựng được bao nhiêu lít nước?

**Bài giải**

.....  
.....  
.....

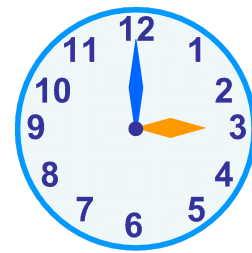
**Bài 7:** Viết số thích hợp vào ô trống:

a) Đồng hồ A chỉ.....giờ

b) Đồng hồ B chỉ.....giờ



A



B

**Bài 8:** Nối mỗi hình với tên gọi của hình đó:



Hình chữ nhật

Hình tam giác

Hình tứ giác

Hình vuông

**Bài 9:** Khoanh vào chữ cái đặt trước câu trả lời đúng:

Trong hình vẽ bên:

a) Số tứ giác là:

A. 1

B. 2

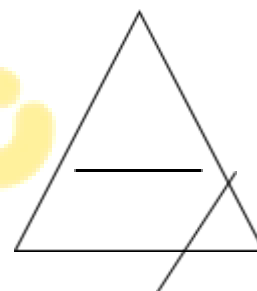
C. 3

b) Số hình tam giác là:

A. 2

B. 3

C. 1





**ĐỀ SỐ 26**



KIỂM TRA CUỐI KÌ 1 , NĂM HỌC 2010-2011  
MÔN TOÁN – LỚP 2 A

**Phần I. Khoanh tròn vào chữ trước câu trả lời đúng nhất (6 điểm)**

1/.  $36 + 42 = 42 + \square$ . Số cần điền vào ô trống là (0,5 đ)  
A. 42                      B. 36                      C. 24

2/. Hiệu của 60 và 27 là: (0,5 đ)  
A. 87                      B. 47                      C. 43

3/. Tổng của 48 và 35 là : ( 0,5 đ)  
A. 63                      B. 73                      C. 83

4/. Lấy một số cộng với 14 ta được 50 . Số đã là : ( 0,5 đ)  
A. 14                      B. 50                      C. 36

5/ Người ta dùng đơn vị đo nào chỉ mức độ nặng hay nhẹ của các vật (0,5 đ)  
A. Lít                      B. Xen-ti-mét                      C. Ki-lô-gam

6/ Chuông reo vào học lúc 7giờ .Bạn An đến trường lúc 8 giờ ; Vậy An đi học muộn bao nhiêu phút: (0,5 đ)  
A. 10                      B. 30                      C. 60



**PHẦN II : (4 điểm)**

7/. Tính (1 điểm)

$$52 \text{ kg} + 18 \text{ kg} + 16 \text{ kg} = \dots\dots\dots 25 \text{ m} + 15 \text{ m} + 40 \text{ m} = \dots\dots\dots$$
$$= \dots\dots\dots = \dots\dots\dots$$

8/. Đặt tính rồi tính (1 điểm)

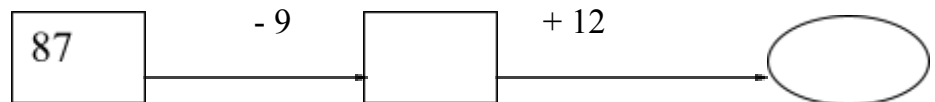
$34 + 28$	$100 - 46$
.....	.....
.....	.....
.....	.....

9/. Em xem tờ lịch tháng 12 dưới đây và viết phần trả lời thích hợp vào chỗ chấm :

12	Chủ nhật	Hai	Ba	Tư	Năm	Sáu	Bảy
				1	2	3	4
	5	6	7	8	9	10	11
	12	13	14	15	16	17	18
	19	20	21	22	23	24	25
	26	27	28	29	30	31	

- Ngày thứ bảy cuối tuần của tháng 12 là ngày : .....
- Ngày 31 tháng 12 là ngày thứ mấy : .....

10/. Số ? (1 điểm)



11/. Bài toán: (2 điểm)

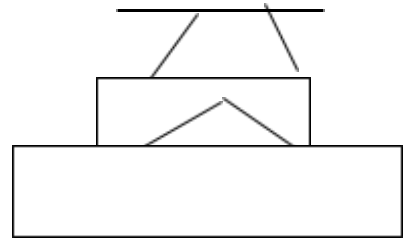
Cái bàn cao 95 cm. cái ghế thấp hơn cái bàn 46 cm . Hỏi cái ghế cao bao nhiêu xen- ti-mét ?

Giải

12/. Viết số thích hợp vào chỗ chấm: (1 điểm)

Hình vẽ bên có :

- .....hình tam giác
- .....hình tứ giác



**ĐỀ SỐ 27)**

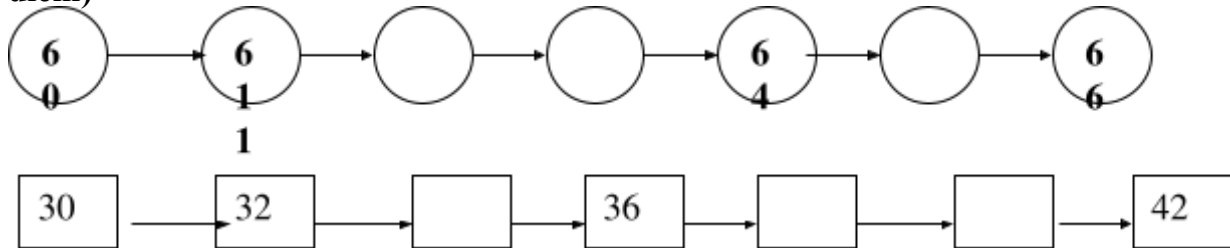


vndoc

Trường Tiểu học Xuân Lộc 1 Họ và tên : ..... Lớp Hai ....	Điểm:	Thứ..... ngày .....tháng 12 năm 2009 <b>KIỂM TRA CUỐI HỌC KÌ I</b> Môn : Toán - Năm học : 2009-2010
---	-------	---

Đề bài (số 1)

1a) .Số? (0,5 điểm)



b) Viết số hoặc chữ thích hợp vào chỗ chấm: (0,5 điểm)

Đọc số	Viết số
Tám mươi tám	.....
.....	66



2. (2 điểm):

a) Tính rồi ghi kết quả vào chỗ chấm :

$9 + 7 = \dots\dots$  ;  $16 - 7 = \dots\dots$  ;  $9 + 6 = \dots\dots$  ;  $17 - 9 = \dots\dots$

b) Đúng ghi Đ, sai ghi S vào  :

$7 + 8 = 15$

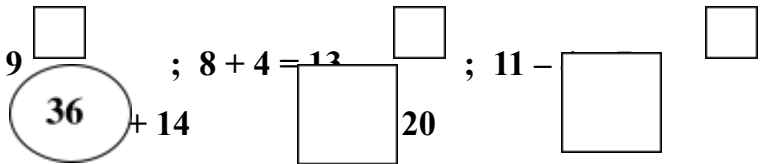
; $12 - 3 = 9$

; $8 + 4 = 13$

; $11 - \square = \square$

3. Số? (1điểm)

a)



b)



4. Đặt tính rồi tính: (2 điểm)

$45 + 27$

$64 - 38$

$33 + 47$

$80 - 36$

5. Giải toán: (2 điểm)

a) Bình nhỏ đựng 15 l nước, bình to đựng nhiều hơn bình nhỏ 9 l. Hỏi bình nước to đựng bao nhiêu lít nước?

Bài giải :

.....  
.....  
.....

b) Băng giấy màu đỏ dài 75cm, băng giấy màu xanh ngắn hơn băng giấy màu đỏ 27 cm. Hỏi băng giấy màu xanh dài bao nhiêu xăng-ti-mét ?

Bài giải :

.....  
.....

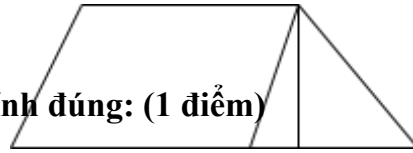
.....  
.....

**6. Viết số thích hợp vào chỗ chấm: (1 điểm)**

Hình vẽ bên:

a) Có.....hình tam giác.

b) Có.....hình tứ giác



**7. Điền số thích hợp vào ô trống để được phép tính đúng: (1 điểm)**

	+		=				-		=	
--	---	--	---	--	--	--	---	--	---	--

\*\*\*\*@@@\*\*\*\*



vndoc

**ĐỀ SỐ 28)**

Trường Tiểu học Xuân Lộc 1 Họ và tên : ..... Lớp Hai ....	<b>Điểm:</b>	Thứ .....ngày..... tháng 12 năm 2009 KIỂM TRA CUỐI HỌC KÌ I Môn : Toán - Năm học : 2009-2010
---	--------------	--

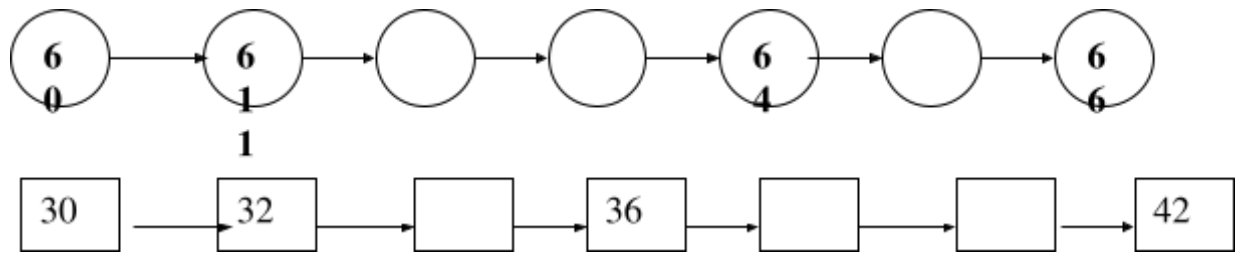
Đề bài (số 2)

**1. a) Viết số hoặc chữ thích hợp vào chỗ chấm: (0,5 điểm)**

Đọc số	Viết số
Tám mươi tám	.....
.....	66



b). Số? (0,5điểm)



2. (2 điểm) :

a) Tính rồi ghi kết quả vào chỗ chấm :

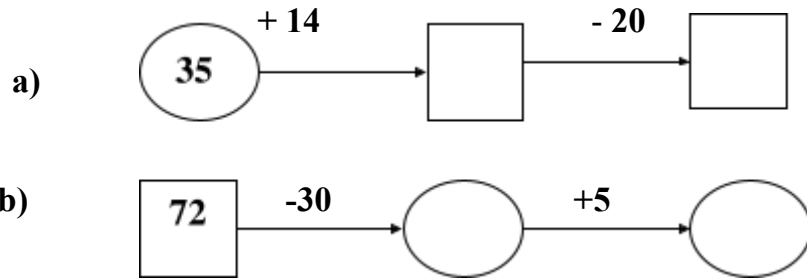
$9 + 7 = \dots\dots$  ;  $16 - 7 = \dots\dots$  ;  $9 + 6 = \dots\dots$  ;  $17 - 9 = \dots\dots$

b) Đúng ghi Đ, sai ghi S vào  :

$7 + 8 = 15$   ;  $12 - 3 = 9$   ;  $8 + 4 = 13$   ;  $11 - 4 = 7$

3. Đặt tính rồi tính: (2 điểm)

4. Số? (1điểm)



5. Giải toán: (2 điểm)

a) Băng giấy màu đỏ dài 75 cm, băng giấy màu xanh ngắn hơn băng giấy màu đỏ 27 cm . Hỏi băng giấy màu xanh dài bao nhiêu xăng-ti-mét ?

Bài giải :

.....  
 .....  
 .....  
 .....

b) Bình nhỏ đựng 15 l nước, bình to đựng nhiều hơn bình nhỏ 9 l. Hỏi bình nước to đựng bao nhiêu lít nước ?

Bài giải :

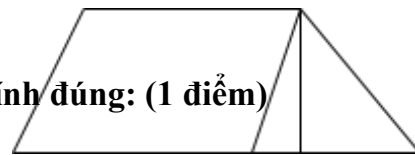
.....  
.....  
.....  
.....

6. Viết số thích hợp vào chỗ chấm: (1 điểm)

Hình vẽ bên:


a) Có.....hình tam giác.

b) Có.....hình tứ giác



7. Điền số thích hợp vào ô trống để được phép tính đúng: (1 điểm)

	+		=				-		=	
--	---	--	---	--	--	--	---	--	---	--



\*\*\*\*@\*\*@\*\*\*\*

vndoc

ĐỀ SỐ 29)

Môn Toán lớp 2 (thời gian làm bài 40 phút)

**Đề 1**

Bài 1: Đúng ghi Đ, sai ghi S vào ô trống

$8 + 4 = 13$

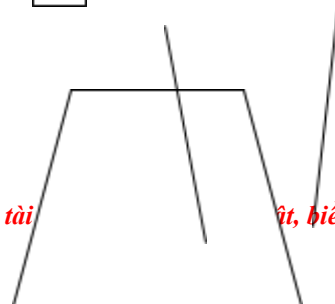
$15 - 9 = 6$

$7 + 9 = 16$

$13 - 6 = 8$

Bài 2: Khoanh vào chữ đặt trước kết quả đúng:

a) Số hình tam giác có trong hình vẽ là:



- A. 1      B. 2      C. 3      D. 4

b) Số hình tứ giác trong hình vẽ là:

- A. 1      B. 2      C. 3      D. 4

Bài 3: Đặt tính rồi tính

$46 + 35$

$53 - 28$

$36 + 54$

$80 - 47$

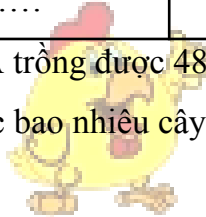
.....  
.....  
.....

$46 + 35 = \dots \quad 53 - 28 = \dots \quad 36 + 54 = \dots \quad 80 - 47 = \dots$

Bài 4: Viết số liền trước, liền sau vào chỗ chấm thích hợp.

Số liền trước	Số đã cho	Số liền sau
.....	25	.....
.....	90	.....

Bài 5: Lớp 2A trồng được 48 cây, lớp 2B trồng được nhiều hơn lớp 2A là 12 cây. Hỏi lớp 2B trồng được bao nhiêu cây?



Bài giải



.....  
.....  
.....  
.....

Bài 6: Tìm x:  $x - 12 = 47$

$x = \dots$

$x = \dots$

Bài 7: Nối mỗi hình với tên gọi của hình đó.



Hình vuông

Hình tứ giác

Hình chữ nhật

Hình vuông



**Đề 2:**

Bài 1: Viết số thích hợp vào chỗ chấm:

76, 78, 80, ....., 84, 86, ....., 90, ....., ....., 96.

Bài 2: Viết số liền trước, liền sau vào chỗ chấm cho thích hợp.

Số liền trước	Số đã cho	Số liền sau
.....	55	.....
.....	89	.....

Bài 3: Đúng ghi Đ, sai ghi S vào ô trống.

a)  $8 + 4 = 13$

b)  $12 - 3 = 9$

c)  $11 - 4 = 7$

d)  $7 + 8 = 15$

Bài 4: Tìm x

$x - 15 = 53$

$45 - x = 35$

$x = \text{.....}$

$x = \text{.....}$

$x = \text{.....}$

$x = \text{.....}$

Bài 5: Đặt tính rồi tính

$26 + 55$

$43 - 28$

$26 + 64$

$70 - 37$

.....

.....

.....

.....

.....

$26 + 55 =$

$43 - 28 =$

$26 + 64 =$

$70 - 37 =$

Bài 6: Quang cân nặng 36 kg. Minh cân nặng hơn Quang 8 kg. Hỏi Minh cân nặng bao nhiêu ki - lô - gam?

Bài làm

.....

.....

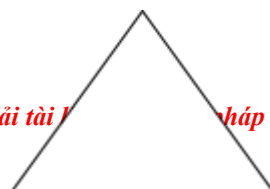
.....

.....

.....

Bài 7: Khoanh vào chữ đặt trước câu trả lời đúng?

Trong hình vẽ bên:



a) Số hình tam giác là:

A. 3      B. 2      C. 1

b) Số hình tứ giác là:

A. 1      B. 2      C. 3



**ĐỀ SỐ 30)**

1/ Viết số thích hợp vào chỗ trống:: (2 điểm)

a/ 62, 63, 64, .....; .....; .....; .....; ....., 70.      b/ 40, 42, 44, .....;.....;.....;.....;....., 56.

2/ Đặt tính rồi tính: (2 điểm)

$36 + 43$

$88 - 65$

$27 + 15$

$80 - 46$

.....  
.....



3/ Tìm X. Biết: (2 điểm)

$$X + 19 = 72$$

$$X - 37 = 28$$

$$100 - X = 45$$

4/ Viết số thích hợp vào chỗ chấm: (1 điểm)

$$2\text{dm} = \dots\dots\dots \text{cm}$$

$$9\text{dm} = \dots\dots\dots \text{cm}$$

$$70\text{cm} = \dots\dots\dots \text{dm}$$

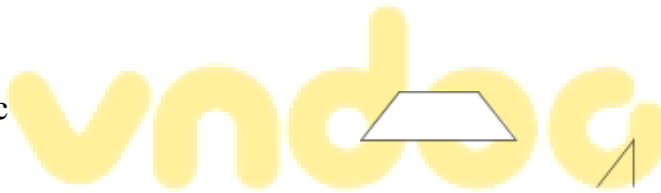
5/ Bình cân nặng 32 ki-lô-gam. Lan nhẹ hơn Bình 9 ki-lô-gam. Hỏi Lan cân nặng bao nhiêu ki-lô-gam? (2 điểm)

**Bài làm**

6/ (1 điểm)

Hình bên có ..... hình tam giác

Hình bên có ..... hình tứ giác



**ĐỀ SỐ 31**

Họ tên:..... Lớp:..... Trường:.....	<b>KIỂM TRA ĐỊNH KÌ CUỐI KÌ I</b> <i>Năm học: 2010-2011</i> <b>MÔN : TOÁN</b> Thời gian : 40 phút (không kể thời gian giao đề)
--	---



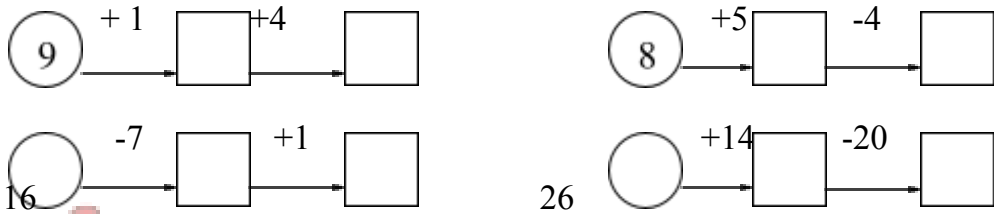
Bài 1: Tính nhẩm (1.5đ)

$$\begin{array}{ccc} 7+8 = \dots & 15-7 = \dots & 12-4 = \dots \\ 18-9 = \dots & 9+8 = \dots & 6+5 = \dots \end{array}$$

Bài 2: Đặt tính rồi tính (2đ)

45+36	100-23	18+49	75-47
.....	.....	.....	.....
.....	.....	.....	.....
.....	.....	.....	.....

Bài 3: Số? (2đ)



Bài 3: Tìm x (1.5đ)

$$x + 5 = 34 \qquad x - 15 = 26$$

.....  
.....  
.....

Bài 4: Thùng thứ nhất đựng được 52 l nước ,thùng thứ hai đựng ít hơn thùng thứ nhất 19 l nước. Hỏi thùng thứ hai đựng được bao nhiêu lít nước .(2điểm)

Bài giải

.....  
.....  
.....  
.....

Bài 6: Tìm một số biết khi lấy số đó cộng với 5 thì bằng 13.

.....  
.....



**ĐỀ SỐ 32)**

Họ và tên:.....

Lớp: 2A

Trường Tiểu học Phương Hưng

**Bài kiểm tra cuối học kì I**

**Năm học 2009- 2010**

**Môn Toán - Lớp 2**

***Thời gian: 40 phút ( không kể thời gian giao đề)***

**Phần I:** Trắc nghiệm (2, 5 điểm)

***Khoanh tròn vào chữ cái trước câu trả lời đúng:***



**Câu 1:** (0,5 điểm)

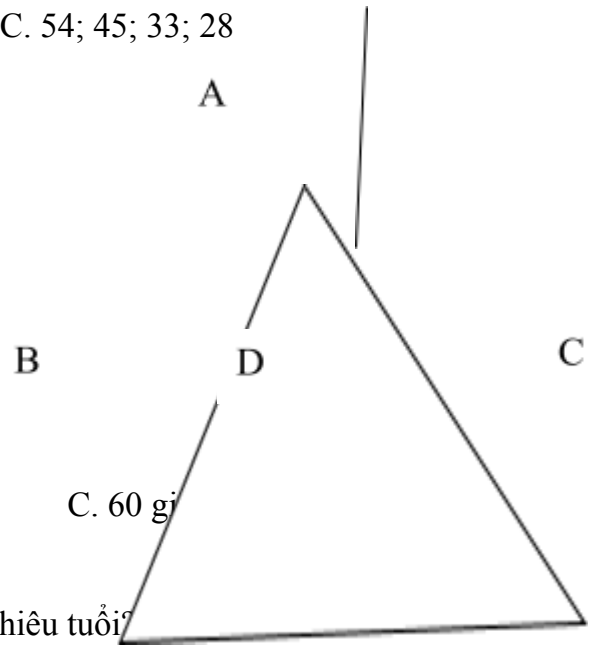
Các số 33; 54; 45 và 28 viết theo thứ tự từ bé đến lớn là:

- A. 28; 45; 54; 33                      B. 28; 33; 45; 54                      C. 54; 45; 33; 28

**Câu 2:** (1 điểm)

a) Hình vẽ bên có ba điểm nào thẳng hàng ?

- A. Ba điểm A, B, C.  
B. Ba điểm A, B, D.  
C. Ba điểm B, D, C.  
D. Ba điểm A, D, C.



b) Một ngày có mấy giờ?

- A. 12 giờ                                      B. 24 giờ                                      C. 60 giờ

**Câu 3:** (1 điểm)

Anh 15 tuổi, em ít hơn anh 8 tuổi. Hỏi em bao nhiêu tuổi?

- A. 3 tuổi                                      B. 23 tuổi                                      C. 7 tuổi

**Phần II:** Tự luận (7,5 điểm)

**Câu 4:** (2 điểm) Đặt tính rồi tính

$17 + 35$	$64 + 36$	$51 - 25$	$100 - 8$

**Câu 5:** (1,5 điểm) Tìm x

$x + 17 = 45$	$x - 39 = 26$	$45 - x = 18$

**Câu 6:** (3 điểm)

Một cửa hàng buổi sáng bán được 100 kg gạo. Buổi chiều bán ít hơn buổi sáng 24 kg. Hỏi buổi chiều cửa hàng bán được bao nhiêu ki- lô- gam gạo?

Bài giải

.....

.....

.....

**Câu 7:** (1 điểm)

Tìm một số biết rằng lấy số đó cộng với 32 thì được 58 ?

Bài giải



**ĐỀ SỐ 33)**

**KIỂM TRA ĐỊNH KÌ CUỐI HỌC KÌ I (2010-2011)**

**MÔN: TOÁN LỚP 2**

**Bài 1:** Điền số thích hợp vào ô trống. (1 điểm)

60		62			65		67	68			71	72			75
----	--	----	--	--	----	--	----	----	--	--	----	----	--	--	----



**Bài 2:** Tính. (5 điểm)

a) Tính nhẩm: (2 điểm), HS tính đúng mỗi phép tính được 0,5 điểm.

$6 + 7 =$

$17 - 9 =$

$12 - 4 =$

$8 + 5 =$

b) Đặt tính rồi tính: (3 điểm), HS đặt tính và tính đúng mỗi phép tính được 0,5 điểm.

$28 + 31$

$15 + 22$

$87 - 47$

$26 + 36$

$54 - 19$

$63 + 18$

**Bài 3:** (1 điểm)

a) Lan đi ngủ lúc 20 giờ, tức là Lan đi ngủ lúc..... giờ đêm. (0,5 điểm).

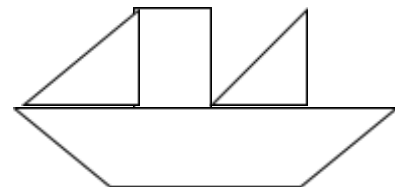
b) Ngày 09 tháng 01 năm 2008 là ngày thứ tư. Ngày 11 tháng 01 năm 2008 là ngày thứ..... (0,5 điểm)

**Bài 4:** Nhận dạng hình. (1 điểm)

a) Trong hình vẽ bên có ..... hình tam giác. (0,25 điểm)

Trong hình vẽ bên có ..... hình tứ giác. (0,25 điểm)

b) Vẽ đoạn thẳng AB dài 6cm. (0,5 điểm)



**Bài 5:** Điền số thích hợp vào ô trống để được phép tính đúng (1 điểm)

37	+	2	=	39
28	-	25	=	3

**Bài 6:** Giải toán (1 điểm)

a) Bạn Lan cân nặng 28kg. Bạn Mai cân nặng hơn bạn Lan 3kg. Hỏi bạn Mai cân nặng bao nhiêu kilogam ?

.....  
.....



.....  
b) Mẹ hái được 38 quả bưởi. Chị hái được 16 quả bưởi. Hỏi mẹ hái nhiều hơn chị bao nhiêu quả bưởi ?

.....  
.....  
.....



**ĐỀ SỐ 34)**

<b>Trường Tiểu học:</b> ..... <b>Lớp :</b> ..... <b>Họ Và tên :</b>	<b>ĐỀ THI CUỐI HỌC KÌ I 2010- 2011</b> <b>Môn : Toán</b> <b>Người ra đề : Võ Thị Duyên</b>	<b>Điểm :</b> <hr/> <b>Chữ kí :</b>
--	--	--



.....		
-------	--	--

Bài 1: (2đ) Đặt tính rồi tính:

$38 + 49$

$71 - 25$

$68 + 8$

$100 - 27$

.....

.....

.....

.....

.....

.....

.....

.....

.....

.....

.....

.....

Bài 2: (1đ) Đúng ghi Đ sai ghi S : (1đ)

a) 71

68

-  $\frac{25}{46}$

46

+  $\frac{8}{66}$

66

Bài 3: (1.5 đ) Tìm x:

a)  $x + 7 = 63$

b)  $8 + x = 83$

c)  $x - 9 = 24$

.....

.....

.....

.....

.....

.....

.....

.....

.....


Bài 4 : (1.5đ) Tính nhẩm

$100 - 60 =$

$100 - 90 =$

$100 - 30 =$

$100 - 40 =$



vndoc

Bài 5: (2đ) Bao to có 35 kg gạo, bao bé có ít hơn bao to 8kg gạo. Hỏi bao bé có bao nhiêu kg gạo ?

Tóm tắt :

Bài giải :

.....

.....

.....

.....

.....

.....

Đáp số : .....

Bài 6: ( 1đ) Vẽ đường thẳng :

a. Đi qua hai điểm M, N.

M

N

b. Đi qua điểm O.

O



Bài 7 : (1đ)

Tính nhanh :

$$1 + 2 + 3 + 4 + 5 + 6 + 7 + 8 + 9 = \dots\dots\dots$$

.....  
.....  
.....



**ĐỀ SỐ 35)**

Trường : TH&THCS Thạnh Trị

**ĐỀ KIỂM TRA CUỐI HỌC KỲ I**

Lớp: .....

**MÔN: TOÁN KHỐI 2**

Họ và tên:.....

**Thời gian: 40 phút**

**Bài 1: Điền số? ( 0,5 điểm)**

91		93			96			99	
----	--	----	--	--	----	--	--	----	--

**Bài 2: Đúng ghi Đ, sai ghi S vào ô trống ( 1 điểm)**



$a/ 6 + 5 = 11 \quad \square$

$c/ 9 + 6 = 14 \quad \square$

$c/ 17 - 8 = 8 \quad \square$

$d/ 14 - 7 = 7 \quad \square$

**Bài 3: Tính ( 1 điểm)**

$a/ 38 + 42 - 20 = \dots\dots\dots$        $b/ 70 - 20 + 5 = \dots\dots\dots$

**Bài 4: Đặt tính rồi tính ( 2 điểm)**

$80 - 22$

$38 + 26$

$47 + 23$

$51 - 19$

.....  
.....  
.....

**Bài 5: Tìm x ( 1 điểm)**

$a/ x + 20 = 60$

$b/ x - 27 = 15$

.....  
.....

**Bài 6: Số ? ( 1 điểm)**

$a/ 14 \text{ lít} - 7 \text{ lít} + 10 \text{ lít} = \square \text{ lít}$

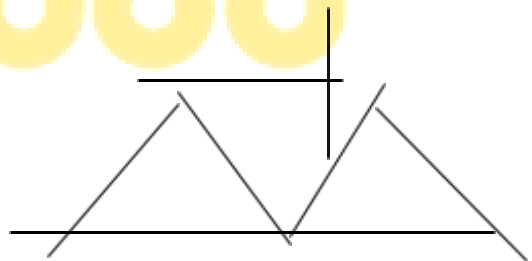
$b/ 35 \text{ kg} - 12 \text{ kg} + 5 \text{ kg} = \square \text{ kg}$

**Bài 7: Viết số thích hợp vào chỗ chấm ( 1 điểm)**

Hình vẽ bên:

a ) Có..... hình tam giác

b ) Có..... hình tứ giác

**Bài 8: Giải toán ( 2 điểm)**

a) An cân nặng 46 kg. Hòa nhẹ hơn An 18 kg. Hỏi Hòa cân nặng bao nhiêu ki-lô-gam?

.....  
.....  
.....

b) Thùng bé đựng 29 lít dầu, thùng to đựng được nhiều hơn thùng bé là 21 lít dầu. Hỏi thùng to đựng được bao nhiêu lít dầu?

.....  
.....  
.....

---

**Bài 9: Điền số thích hợp để được phép tính đúng( 0,5 điểm)**

$$\square + \square = \square$$

$$\square - \square = \square$$



**ĐỀ SỐ 36)**

Họ và tên HS: .....	<b>KIỂM TRA ĐỊNH KÌ CUỐI HKI</b>	<u>Điểm</u> :
Lớp : 2 .....	<b>MÔN : TOÁN – LỚP 2</b>	



Trường TH Số 2 Nam Phước	Năm học : 2010 - 2011 Thời gian : 40 phút	GK(ký) :
--------------------------	--	----------

**I. Phần trắc nghiệm: 3 điểm (Khoanh vào chữ cái trước câu trả lời đúng).**

**Câu 1:** Thứ ba tuần này là ngày 20 tháng 12. Vậy thứ ba tuần sau là ngày mấy?

- A. Ngày 26 tháng 12    B. Ngày 27 tháng 12    C. Ngày 28 tháng 12

**Câu 2:**  $3 + 5 + 7 \dots\dots 5 + 7 + 3$ . **Dấu cần điền vào chỗ chấm là:**

- A. >    B. <    C. =    D. Không có dấu nào.

**Câu 3 :** Hiệu của 73 và 37 là

- A. 36    B. 36    C. 35    D. 47

**Câu 4 :** Chiều dài của cái giường em nằm ước chừng là :

- A. 50 cm    B. 2 km    C. 2 m    D. 10 dm

**Câu 5:** Đúng ghi đ, sai ghi s vào ô trống :

a/ Muốn tìm số bị trừ ta lấy hiệu cộng số trừ.

b/ Muốn tìm số hạng chưa biết ta lấy tổng cộng số hạng kia.

c/ Muốn tìm số hạng chưa biết ta lấy tổng trừ số hạng đã biết.

d/ Muốn tìm số trừ ta lấy số bị trừ trừ đi hiệu.


**II. Phần tự luận: 7 điểm**

**Câu 1:** (1 điểm) Tính nhẩm:  $6 + 7 = \dots\dots\dots$      $12 - 8 = \dots\dots\dots$

$5 + 9 = \dots\dots\dots$      $15 - 9 = \dots\dots\dots$

**Câu 2:** (2,5 điểm) Đặt tính rồi tính :

$46 + 7$                        $58 + 26$                        $86 - 28$                        $65 - 17$                        $100 - 24$

.....  
.....  
.....

**Câu 3:** (1 điểm) Tìm X, biết :

$$x + 34 = 62$$

$$52 - x = 27$$

.....  
.....  
.....

**Câu 4 :** (1,5 điểm) Năm nay bà 70 tuổi, mẹ kém bà 28 tuổi. Hỏi năm nay mẹ bao nhiêu tuổi ?



Tóm tắt :

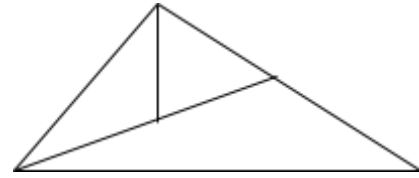
Giải :

.....

.....

.....

**Câu 5:** (0,5 điểm) Trong hình vẽ bên có .... hình tam giác.



**Câu 6:** (0,5 điểm) **Điền số thích hợp để được phép tính đúng:**

39	+		=			87	-		=	
----	---	--	---	--	--	----	---	--	---	--



vndoc

**ĐỀ SỐ 37)**



# ĐỀ KIỂM TRA HỌC KÌ I

MÔN: Toán 2. Ngày thi: .....

Thời Gian: 60 phút

1/. Điền số có 2 chữ số vào ô trống: (0.5 đ)

68	69	70					75
46	48				56		60

2/. Đọc số: (0.5 đ)

65:.....

90:.....

3/. Số? (1 đ)

Số bị trừ	25	35	37	46
Số trừ	7	8	9	9
Hiệu				

4/. Đúng ghi Đ, sai ghi S vào ô trống: (1 đ)

$7 + 8 = 15$  „

$8 + 4 = 13$  „

$12 - 3 = 9$  „

$11 - 4 = 7$  „

5/. Đặt tính rồi tính: (2đ)

$45 + 27 = ?$	$64 - 38 = ?$	$33 + 47 = ?$	$11 - 4 = ?$

6/. Tìm X: (1đ)

$X - 12 = 47$	$X - 16 = 43$




7/. Một cửa hàng có 85 chiếc xe đạp, đã bán được 25 chiếc xe đạp. Hỏi cửa hàng còn lại bao nhiêu chiếc xe đạp? (2 đ)

Bài giải


8/. Số? (1 đ)

$5 + 8 \rightarrow \bigcirc$

$16 - 9 \rightarrow \bigcirc$



$6 + 9 \rightarrow \bigcirc$

$13 - 8 \rightarrow \bigcirc$

9/. Nhận dạng hình: (1 đ)

Trong hình vẽ có ..... hình tam giác.



Tham khảo thêm tài liệu:

<https://vndoc.com/de-thi-hoc-ki-1-lop-2>